

2021 年度 普連土学園中学校

入学試験問題

2021 年 2 月 1 日実施

社 会

1 日午前 4 科

- 1 . 問題に答える時間は 3 0 分です。
- 2 . 問題は、 ~ まであります。
- 3 . 答はすべて、「解答用紙」に記入下さい。
- 4 . 「解答用紙」は中に 1 枚はさんであります。

- 1 次のカードは、中学2年生の友子さんが新渡戸稲造^{にとべいなぞう}について調べて、わかったことをまとめたものです。あとの問いに答えなさい。

カード1

新渡戸家は 東北地方の南部藩に仕えた武士の家系です。稲造の祖父や父は現在の 青森県三本木原の開拓事業を成功させ、明治天皇からも評価されました。このような出来事は、稲造の 農業に対する関心を高めた理由の1つとして考えられます。

カード2

稲造は生涯^{しょうがい}を通じて非常に 勉強熱心で、読書家でした。札幌農学校時代も英語で書かれた本を読破し、海外との文化的背景の違いを学んだとされています。 国内・国外で活躍^{かつやく}する際に、この経験は大いに役立ち、優れたバランス感覚が評価されました。

問1 下線部の地域の自然を説明した文のうち、誤っているものを次のア～エから1つ選び、記号で答えなさい。

- ア．中央に奥羽山脈、西に出羽山地、東に北上高地が並んでいます。
- イ．三陸海岸南部にはリアス海岸が発達しています。
- ウ．十和田湖や田沢湖などのカルデラ湖があります。
- エ．三大急流の一つである最上川の下流には仙台平野が広がっています。

問2 下線部の地域は開拓されるまで荒野でした。原因の一つとして、特有の気候が関係しています。説明文の空らんにあてはまる語句を答えなさい。ただし、(あ)は漢字2字で、(い)はひらがなで答えなさい。

三本木原で植物が育たず、荒野となっていたのは、東北地方の太平洋側は寒流の(あ)海流と、その上空を吹く(い)と呼ばれる風の影響で、初夏に冷害がおりやすいためです。

問3 下線部 について、次の文A Bは、東北地方や北海道の農業に関する説明をしたものです。空らんにあてはまる語句をそれぞれ漢字4字で答えなさい。

- A 東北地方は米作りがさかんで、「日本の米ぐら」とも呼ばれます。特に庄内平野や秋田平野は、裏作を行わずに夏だけで米を生産する、(あ)地帯です。
- B 北海道地方の東部に広がる(い)という平野は、じゃがいも、豆類、てんさいの栽培が盛んで、日本最大の畑作地帯です。

問4 下線部 について、江戸時代と明治時代の教育を説明した次の文を読んで、空らんにあてはまる語句を漢字で正しく答えなさい。

江戸時代、庶民しよみんは(あ)で「読み・書き・そろばん」を学びました。一方、1872年に、明治政府は国民全体の教育水準を上げるため(い)を制定し、満6歳以上の男女を小学校に通わせることを義務としました。

問5 下線部 について、友子さんは稲造の生涯を年表にまとめました。年表を見て、あとの問いに答えなさい。

年	稲造の年表	国内外の出来事
1862	盛岡で生まれる	生麦事件
1867	稲造の父、十次郎が亡くなる	(A)
1877	札幌農学校入学 翌年 <u>キリスト教の洗礼を受ける</u>	西南戦争
1881	札幌農学校を卒業後、北海道開拓使に就職	
1884	アメリカに留学	秩父事件
1891	帰国し札幌農学校の教授になる	
1894	遠友夜学校 <small>えんゆうや</small> を設立 昼間働く子どものための学校	(B) 撤廃 <small>てっぱい</small>
1900	病氣療養 <small>りょうよう</small> 先のアメリカで『武士道』出版	
1902	台湾総督府糖務局長 <small>たいわんそうとくふとうむきょくちょう</small> になる	(C)
1920	<u>国際連盟の事務次長になる</u>	国際連盟結成
1929	太平洋問題調査会の理事長になる	
1933	パンフ会議に出席中カナダで病死	日本の国際連盟脱退

(1) 年表中の空らん(A)~(C)に入る出来事を語群から選び、答えなさい。

語群【 日露戦争 治外法権 大政奉還 日英同盟 】

(2) 年表中の波線部 について、キリスト教の歴史を説明した次の文を古い順に並べなさい。

ア．島原・天草地方で重い年貢と迫害に耐えかねて、天草四郎を中心に反乱が起こりました。

イ．九州のキリシタン大名は4人の少年をローマ教皇へ派遣しました。

ウ．庶民に対して五枚の立て札が示され、キリスト教は前の時代から引き続き禁止されました。

エ．内村鑑三はロシアとの戦争をキリスト教徒の立場から反対しました。

(3) 年表中の波線部 について、稲造は国際連盟の機関であった国際知的協力委員会でも活躍しています。国際連合でもこの委員会の意志を引き継いだ機関がつけられました。教育や科学、文化により国際平和に貢献するこの機関を何といいますか。カタカナで答えなさい。

問6 明治初期に北海道の開拓は急速に進み、アイヌの人々の生活や文化が失われていきました。1997年アイヌ文化振興法が公布され、差別の解消が目指されています。これは日本国憲法における、基本的人権のうち平等権が「()の平等」を定め差別を否定しているからです。空らんにあてはまる語句を答えなさい。

2 次の会話文を読んで、あとの問いに答えなさい。

先生： 最近気になったニュースは何ですか。

友子： 「キャッシュレス・消費者還元制度」が6月末で終了したことです。母が「2～5%の還元が終了する」と、あわてて買い物に行きました。

先生： この制度は、2019年10月からの消費税率の引き上げとともに開始されましたね。

友子： ほとんどの商品の消費税率は10%になりましたが、食料品や新聞など特定の商品だけは8%のままの【あ】税率制度が導入されたのも覚えています。

先生： よく勉強していますね。他に気になったニュースはありますか。

友子： 2020年の7月5日に行われた東京都知事選挙も気になりました。

先生： 過去最多の22人の候補者が立候補して、都知事を務めていた【い】さんが再び当選しましたね。

友子： 投票日当日ではなく事前に投票する制度である【う】投票が、新型コロナウイルスの影響で注目されました。ですが、前回の都知事選挙に比べると投票率が下がっていたのが意外でした。

先生： 都知事選挙に限らず、衆議院選挙や参議院選挙でも投票率は低下しています。選挙権を行使しない人が多くいますね。

友子： かつては、選挙権を持つ条件を定めた制限選挙で、選挙に参加したくても権利がない人も多くいたのですよね。

先生： 最初の選挙である1890年の衆議院議員総選挙では、「満25歳以上の男性で を15円以上納入した者」という条件がありました。

友子： 選挙が行われるようになるまでの歴史上の流れも含め、今のうちから選挙のことをしっかり勉強しておこうと思います。

問1 文中の空らん【あ】～【う】にあてはまる語句を答えなさい。

問2 下線部 について、キャッシュレス決済の具体例を1つ答えなさい。

問3 次の文は、下線部 についてまとめたものです。これについてあとの問いに答えなさい。

衆議院で用いられている選挙制度に、1つの選挙区から1人の議員を決める(A)という制度があります。この選挙制度では、当選した人以外に入れられる(B)が多くなり少数意見が反映されにくいという短所があります。この短所を補^{おぎな}うためにあわせて用いられているのが比例代表制です。

(1) 空らん(A)・(B)にあてはまる語句を、漢字で正しく答えなさい。ただし、(B)は漢字2字で答えなさい。

(2) 下線部について、比例代表制とはどのような制度ですか。次の語群の語句をすべて用いて説明しなさい。

語群【 政党 得票数 議席 】

問4 下線部 の選挙権と被選挙権について述べた文として正しいものを次のア～エから1つ選び、記号で答えなさい。

ア．選挙権は満20歳以上の人、被選挙権は満30歳以上の人を持つ。

イ．選挙権は満20歳以上の人、被選挙権は満25歳以上の人を持つ。

ウ．選挙権は満18歳以上の人、被選挙権は満30歳以上の人を持つ。

エ．選挙権は満18歳以上の人、被選挙権は満25歳以上の人を持つ。

問5 文中の空らん にあてはまる語句を漢字4字で答えなさい。

問6 次の文は明治時代に選挙が行われるようになるまでをまとめたものです。空らんにあてはまる語句をそれぞれ答えなさい。

新政府は(ア)を發表し、政治の基本方針を示しました。その中には、より多くの国民の意見を尊重することも述べられていましたが、実際は特定の藩の出身者のみで政治が行われていました。これに不満を持った(イ)は、1874年に民選議院設立の建白書を提出し、自由民権運動が始まりました。1881年に国会開設の^{みことのり}詔が出されると政党の結成が盛んに行われるようになりました。(イ)が党首の自由党や、(ウ)が党首の立憲改進黨などが主な例です。

問題は次のページに続きます。

3 次の文を読んで、あとの問いに答えなさい。

日本には数え切れない程の数の城があります。例えば、【 あ 】県姫路市の姫路城や 長野県松本市の松本城、【 い 】県松江市の松江城などの 国宝の天守閣を持つ城が有名です。実は日本にある城のほとんどが山城やまじろです。そもそも城は、戦いのための場所です。その中でも山城は、小高い山地の全体を利用して、崖がけや谷地などの自然のけわしい 地形を取り込んで城にしたものです。また、土を積み堀ほりをつくるなどして、人の手も加えることでさらに守りを固めました。全国各地で山城はつくられており、【 う 】県男鹿市の脇本城わきもと、【 え 】県甲府市の要害山城ようがいさん、群馬県太田市の金山城などが知られています。

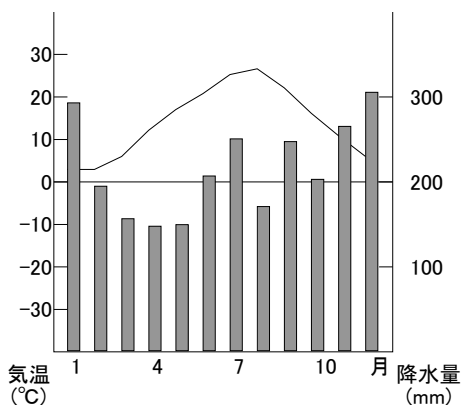
山城のふもとに商人や職人など多くの人々が住んで城下町となる場合もありました。福井県にある一乗谷いちじょうだには、1400年代につくられたとされる戦国大名の朝倉氏の城下町でした。4つの山城に囲まれた川沿いの谷地につくられていました。天下統一を目指した【 お 】によって焼き尽くされてしまいましたが、発掘調査がおこなわれ、史跡公園として整備され当時の町並も復元されています。

山城のある地方公共団体や関係団体が中心となって、1994年から全国山城サミットが始まりました。また、全国各地でボランティアや地元の有志による山城のガイドや山城をめぐるイベントなども開催かいさいされています。このように、かつて「戦いのための場所」であった山城は、現在は「」として利用される場所」となって老若男女問わず親しまれています。

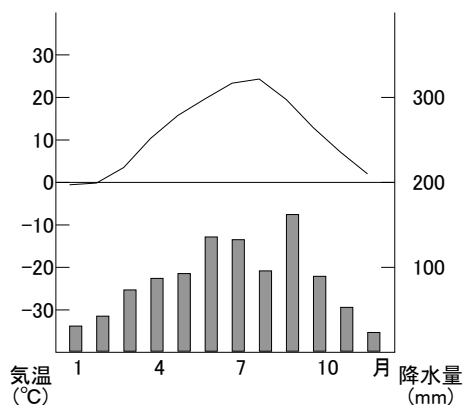
問1 文中の空らん【 あ 】～【 え 】にあてはまる県名を漢字で正しく答えなさい。

問2 次のア～エは、根室・松本・金沢・那覇の4都市の気候グラフです。下線部の都市のグラフとして正しいものを1つ選び、記号で答えなさい。

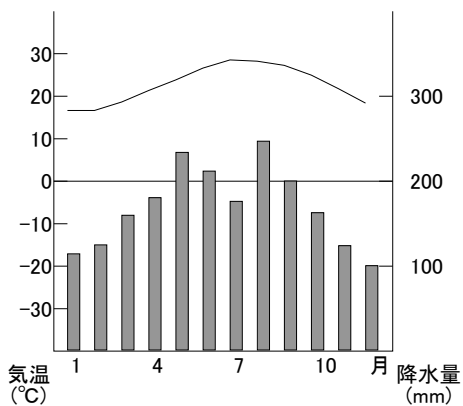
ア



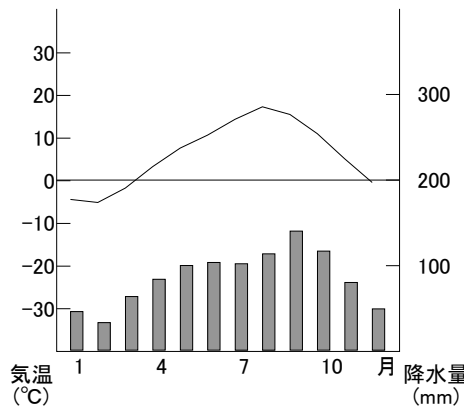
イ



ウ



エ

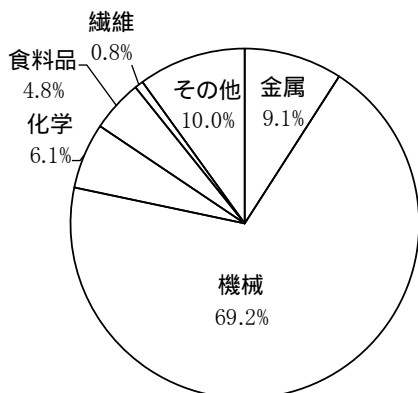


問3 下線部 について、国宝に指定されていて、聖武天皇の遺品などが納められている建築物を何といいますか。

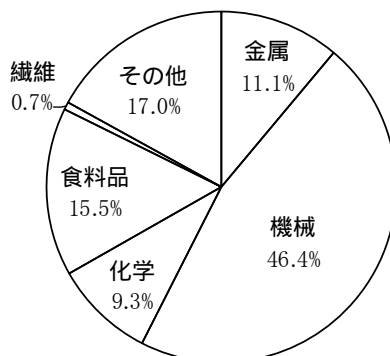
問4 下線部 について、河川によって運ばれた土砂が河口付近に積もって形成された低い土地を何といいますか。

問5 次のア～エは、中京工業地帯・阪神工業地帯・京葉工業地域・関東内陸工業地域の工業別生産額の割合を示したグラフです。下線部の都市を含む工業地帯・工業地域のグラフとして正しいものを1つ選び、記号で答えなさい。

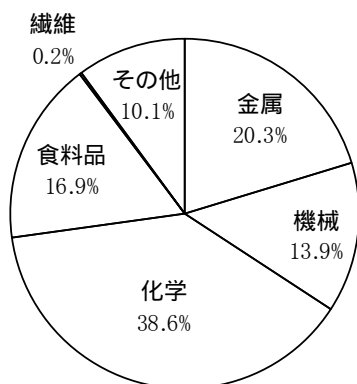
ア



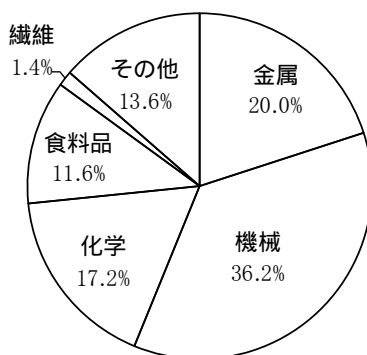
イ



ウ



エ



(2016年の統計。『日本国勢図会2019/20』より作成。)

問6 下線部の時期に起きた出来事を、次のア～エから1つ選び、記号で答えなさい。

- ア．京都で応仁の乱が起きました。
- イ．元の軍勢が攻めてきました。
- ウ．関ヶ原の戦いで石田三成が負けました。
- エ．源頼朝が征夷大將軍に就任しました。

問7 文中の空らん【 お 】にあてはまる人物のなまえを漢字で正しく答えなさい。なお、この人物は家臣の裏切りによって亡くなりました。

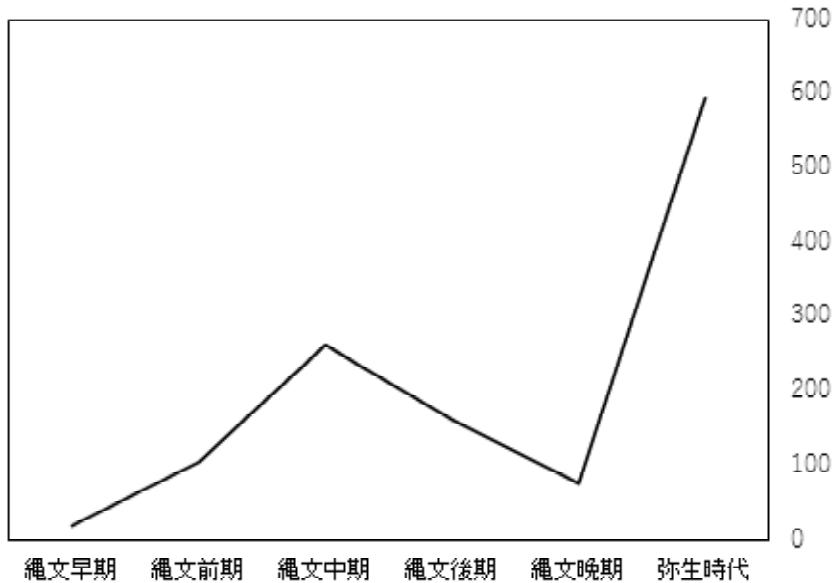
問8 下線部 について、次は埼玉県富士見市にある水子貝塚公園の^{みづこ}写真です。この建築物を何といいますか。



問9 文中の空らん にはどのような言葉を入れることができますか。問題文の内容をふまえて6字以内で答えなさい。

4 次の資料は、日本の人口の推移を表したものです。これについて、
あとの問いに答えなさい。

< 資料 : 縄文時代から弥生時代の人口 > (千人)



< 資料 : 室町時代から現代までの人口 >

(千人)			(千人)				
	1450年	10,050		1920年	55,963		
A	↑	1600年	12,273	C	↑	1950年	84,115
		1721年	31,278			1960年	94,302
	↓	1786年	30,103			1970年	104,665
		1792年	29,869			1980年	117,060
	1804年	30,746		↓	1990年	123,611	
	1822年	31,913			2000年	126,926	
B	↑	1840年	31,102	D	↑	2010年	128,057
		1873年	33,300			2025年	120,913
	↓	1890年	41,308			2055年	89,930
		1900年	46,540			↓	2105年

(鬼頭宏『人口で見る日本史』、『2020データブックオブザワールド』をもとに作成。)

問1 <資料>の人口の増減についてまとめた次の文の空らんにあてはまる語句をそれぞれ2字で答えなさい。

縄文時代は(あ)などをして食料を得ていました。しかし、気候の影響などもあり、安定して食料は得られませんでした。大陸から伝わった(い)が弥生時代に広がると、食料が安定して供給できるようになり、人口が急増したと考えられています。

問2 <資料> Aの時期について、次の問いに答えなさい。

(1) この時期には農業が発達したことが人口の増加に大きな影響を与えています。次の文のうち、江戸時代に始まったこととして、あてはまるものをすべて選び、記号で答えなさい。

ア．備中ぐわや千歯こき、唐みなどの農具の改良が行われました。

イ．牛馬耕が行われるようになり、肥料として草木灰が使用されるようになりました。

ウ．麦を裏作とする二毛作が畿内を中心に始まりました。

エ．新田開発がすすめられ、約100年間で耕地面積がおよそ2倍に増えました。

オ．全国の土地の面積・収穫高(石高)・耕作者を調べ、租・庸・調の納める量を決めました。

(2) 1700年代の後半は、天災などが多く、ききんが起こり、人口が停滞します。Aの時期におきた次のア～ウのききんと改革を年代順に並びかえなさい。

ア．天明のききん イ．寛政の改革 ウ．享保のききん

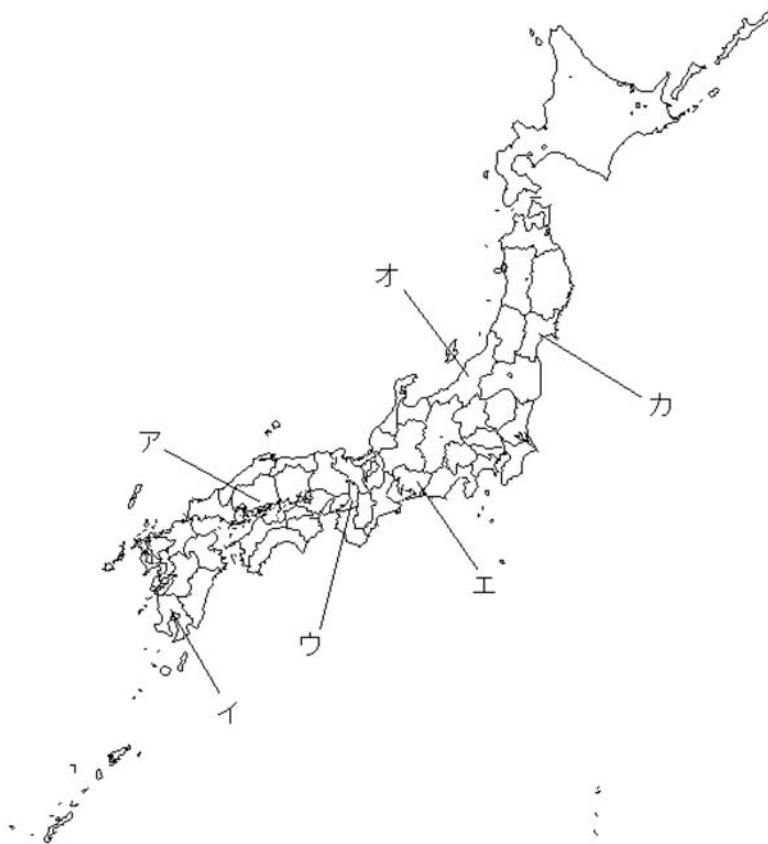
問3 次の ~ は、<資料> Bの時期に栄えた地域について述べた文です。 ~ の地域の場所として、あてはまるものを下の<地図>のア~カから選び、記号で答えなさい。

稲作に適した気候や土^ど壤^{じょう}に恵まれ、雪解け水などを利用した米作りがさかんであり、大阪と蝦夷地を結ぶ北前船もあったことから発展した。

この地域出身の徳川家康が城下町づくりを行い、木曾の山林（御用林）を特別に与えたことなどから発展した。

のちに「東洋のマンチェスター」といわれるほど、紡績業を中心に商工業が飛躍的に発展した。

<地図>



問4 <資料> Cの時期について、次の問いに答えなさい。

(1) 都市圏でおこったことについて述べた文として、誤っているものを次のア～エから1つ選び、記号で答えなさい。

ア．大都市圏では宅地が不足した結果、新たな「ニュータウン」が建設された。

イ．三大都市圏や太平洋ベルト、各地方の中心となる市などで特に人口が集中し、過密になった。

ウ．特に大都市圏の周辺部で人口増加率が上がった結果、都市部の夜間人口が増加した。

エ．1970年代から80年代にかけて、東京の中心部では地価が高騰したことから人口が減少した。

(2) 大都市で人口が増加する一方、地方の農村部などでは人口が減少していきました。極端に高齢化や過疎化が進行した結果、共同体の維持が困難になっている集落のことをなんといいますか。解答らんに合わせて、漢字で正しく答えなさい。

問5 <資料> Dの時期について、日本では現在人口が減少しており、将来人口推計によれば、今後さらに急減していくとみられています。これについて、次の問いに答えなさい。

(1) 現在、出生率が低下しています。一人の女性が生涯に産む子どもの数の平均(2020年)を、次のア～エから1つ選び、記号で答えなさい。

ア． 0.36 イ． 0.86 ウ． 1.36 エ． 2.86

問題は、次のページに続きます。

(2) 高齢化が進むと、今後ますます「社会保障制度」が重要になりますが、「社会保障制度」は憲法第 2 5 条の考えに基づいています。この条文を次のア～エから 1 つ選び、記号で答えなさい。

ア．すべて国民は、健康で文化的な最低限度の生活を営む権利を有する。

イ．すべて国民は、法律の定めるところにより、その能力に応じて、ひとしく教育を受ける権利を有する。

ウ．思想および良心の自由は、これを^{おか}侵してはならない。

エ．何人も公共の福祉に反しない限り、居住、移転および職業選択の自由を有する。

(3) 高齢化の進行によって今後「2025年問題」が起こると言われています。どのようなことが考えられますか。「2025年には～」という書き出しで、次の語群の語句をすべて用いて、説明しなさい。

語群【 3割 年金 介護 働く世代 】