

2022 年度 普連土学園中学校

入学試験問題

2022 年 2 月 4 日実施

社 会

4 日午前 4 科

- 1 . 問題に答える時間は 3 0 分です。
- 2 . 問題は、 ~ まであります。
- 3 . 答はすべて、「解答用紙」に記入しなさい。
- 4 . 「解答用紙」は中に 1 枚はさんであります。

問題は、次のページから始まります。

1 次の会話文を読んで、あとの問いに答えなさい。

先生： 2021年に東京で、オリンピック・パラリンピック競技大会が開催されました。夏季・冬季含めその前に日本で開催されたのはいつであるか知っていますか。

友子： 1998年です。長野県で冬季オリンピックが開催されました。

先生： 長野県は、今回も 事前合宿の受け入れや参加国・参加地域との交流を地域活性化につなげる活動を行う自治体に登録していました。冬季競技を通じて交流を深めている中国を迎え入れていました。

友子： 長野県の 松本市は内陸性の気候だと授業で習ったため、雪が多く降り積もるイメージがありませんでした。

先生： 長野県内でも、日本海側からの季節風が山脈にぶつかるため、場所によって積雪量に差が生じます。

友子： なるほど。 日本アルプスのような標高の高い山々が連なる長野県だからこその特徴ですね。

先生： 長野県には、その他にも浅間山をはじめとする活火山も多数存在しています。浅間山は1783年に噴火し、 当時起きていた天明のききんに追い打ちをかけました。

友子： 長野県は自然豊かな地域ですね。湖もたくさんあると授業で習いました。

先生： そうですね。精密機械工業が盛んな【 あ 】湖や、旧石器時代のナウマンゾウの化石が^{はっくつ}発掘された【 い 】湖も、長野県内にある湖です。

友子： 歴史的に有名な場所も多いですね。

先生： 長野県内には、江戸時代に整備された 五街道の一つである中山道の宿場町がいくつかあります。また、先ほど話題に上がった松本市には、明治時代初期に建設された 開智学校もあります。

友子： 長野県は地理的にも歴史的にも魅力^{みりょく}ある地域なのですね。ぜひ一度訪ねてみたいです。

問1 空らん【 あ 】・【 い 】にあてはまる湖のなまえをそれぞれ答えなさい。

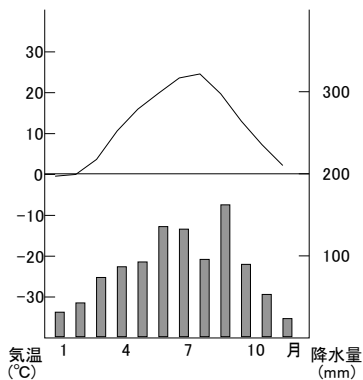
問2 下線部 について、次の問いに答えなさい。

- (1) このような自治体を何といいますか。カタカナ6字で答えなさい。
 (2) (1)に登録すると、一部の必要経費に対して地方交付税の一種である特別交付税が支給されます。地方財政において、国が使い道を決めて地方自治体に交付するお金を何といいますか。漢字5字で答えなさい。

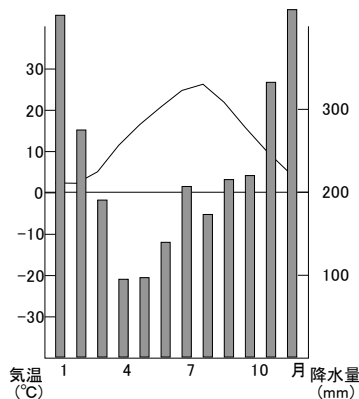
問3 下線部 について、次の問いに答えなさい。

- (1) 松本市の雨温図として正しいものを次のア～エから1つ選び、記号で答えなさい。

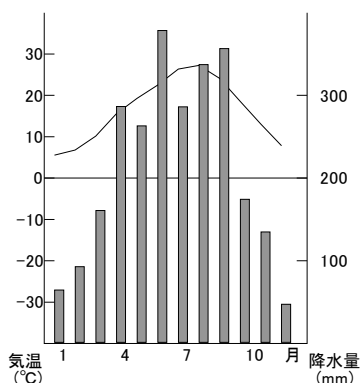
ア.



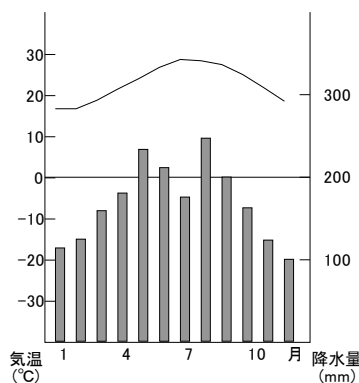
イ.



ウ.

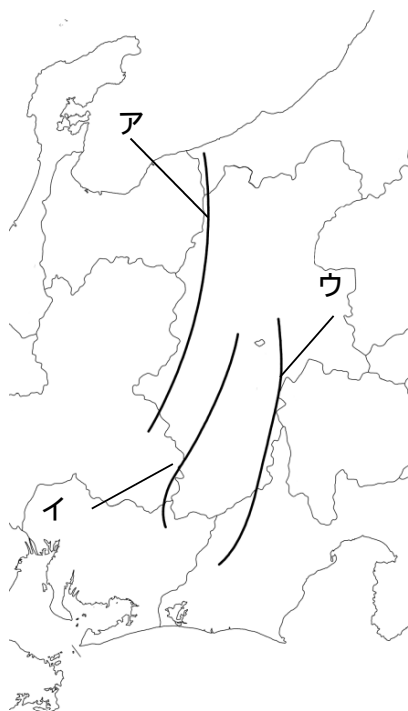


エ.



- (2) (1)を選んだ理由を、気温・降水量に触れながら説明しなさい。

問4 下線部 について、次の地図は日本アルプスを表しています。山脈ア～ウのなまえをそれぞれ答えなさい。



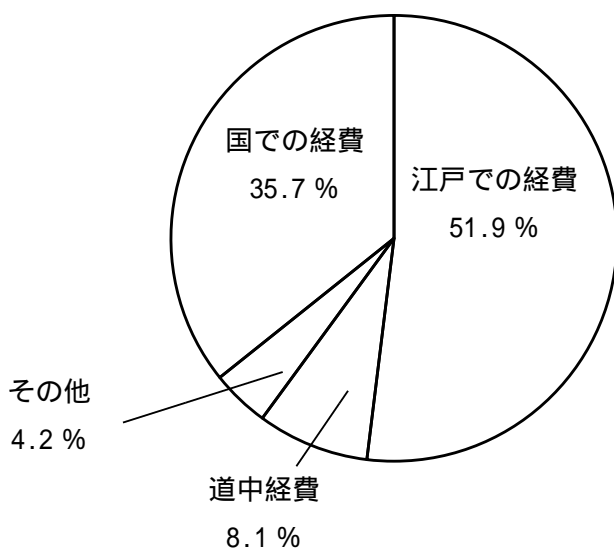
問5 下線部 について、次の問いに答えなさい。

(1) 次の歌は、天明のききんに対して幕府が行った改革を題材としたものです。[X]にはその主導者が藩主であった地域名が、[Y]にはその前に政治の中心だった人物の名字が入ります。空らん[X]・[Y]にあてはまる語句をそれぞれ漢字2字で答えなさい。

[X]の 清きに魚の すみかねて 元のにごりの [Y]恋しき

(2) ききんによる米の値上がりに苦しむ都市の人々も、米商人らをおそう暴動を起こすようになりました。この暴動を何といいますか。

問6 下線部 は、参勤交代のために整備されました。参勤交代が大名に与えた影響を、次のグラフから読み取れることを用いて説明しなさい。
< 松江藩（島根県）における1768年の財政支出（給料を除く）の内訳 >



(丸山^{やすなり}雅成 『日本歴史叢書^{そうしよ} 参勤交代』をもとに作成。)

問7 下線部 の学校は、明治時代初期に政府から発布された学制を受け建てられました。1870年代の政策について述べた文として正しいものを次のア～エから1つ選び、記号で答えなさい。

- ア．前島^{ひそか}密によって、郵便制度が始まりました。
- イ．現在の栃木県に官営工場の富岡製糸場が建設され、殖産興業が進みました。
- ウ．上野駅と横浜駅とを結ぶ鉄道が開通しました。
- エ．徴兵令を発布し、25歳以上の男子に兵役の義務を課しました。

- 2 次の資料は、日本の大規模自然災害についてまとめたものです。これについて、あとの問いに答えなさい。

< 地震と津波 > Mはマグニチュードの略

地震	<p>・【 あ 】地震 (1923年 9月 1日): M7.9</p> <p>震源は神奈川県<small>ゆ</small>の南方に位置する【 い 】湾沖<small>とうかい</small>で、関東全域が被災。揺れによる建物の倒壊のほか、昼食時だったため火災が多発。死者行方不明者は10万人を超えた。</p>
	<p>・ <u>北海道南西沖地震</u> (1993年 7月 12日): M7.8</p> <p>地震による津波<small>おくしりとう</small>で奥尻島を中心に被害者がでた。</p>
	<p>・ 兵庫県南部地震 (1995年 1月 17日): M7.3</p> <p>震源は <u>明石海峡</u>で、被災地は兵庫県を中心に大阪府や京都府まで広がった。兵庫県の県庁所在地である【 う 】市の市街地が大きな被害を受けた都市直下地震<small>ろうきゆうか</small>で、老朽化した木造家屋の倒壊が多かった。</p>
	<p>・ <u>新潟県中越地震</u> (2004年 10月 23日): M6.8</p> <p>本震以後、震度 6 弱以上が 4 度も発生。</p>
	<p>・ 東北地方太平洋沖地震 (<input type="text" value="X"/>): M9.0</p> <p>地震と津波が東日本の太平洋沿岸部を中心に甚大な被害<small>じんだい</small>をもたらした。地震のエネルギーは【 あ 】地震の約45倍にあたる。死者行方不明者は 2 万2000人を超えた。</p>
	<p>・ 熊本地震 (2016年 4月 14日・16日)</p> <p>4月14日に M6.5の地震、16日に M7.3の地震が発生した。</p>
津波	<p>・ 明治 <u>三陸地震津波</u> (1896年 6月 15日): M8.2~8.5</p> <p>最大震度は 3 で、地震による被害はほとんどなかったが、地震発生から約30分後に38.2メートルの津波が起きた。</p>
	<p>・ 昭和<u>三陸地震津波</u> (<u>1933年</u> 3月 3日): M8.1</p> <p>28.7メートルの津波を観測した。</p>
	<p>・ チリ地震津波 (<u>1960年</u> 5月 23日): M9.5</p> <p>チリで起きた地震の津波が、約22時間半後に三陸海岸に到達した。</p>

< 火山と台風 >

火山	<ul style="list-style-type: none"> ・ <u>伊豆大島</u>噴火（1986年11月） <u>活火山</u>の三原山が噴火。溶岩流により全島避難^{ひなん}。
	<ul style="list-style-type: none"> ・ 雲仙普賢岳噴火（1990年～1995年） 1990年に198年ぶりに噴火。<u>1991年</u>に大規模な火砕流^{かさいりゅう}が発生。
	<ul style="list-style-type: none"> ・ 御嶽山噴火（2014年） 噴煙が流れ下り、噴火にともなう大きな噴石の飛散等に警戒が必要となった。
台風	<ul style="list-style-type: none"> ・ カスリーン台風（1947年9月） <u>紀伊半島沖</u>から東海・関東地方をかすめて三陸沖へ抜けた大型台風。
	<ul style="list-style-type: none"> ・ 伊勢湾台風（1959年9月） 潮岬に上陸し、紀伊半島から <u>東海地方</u>をおそった超大型台風。死者行方不明者の多くは愛知県と三重県に集中した。室戸台風、枕崎^{まくらざき}台風とともに「昭和の三大台風」といわれる。

（東京都教育委員会『防災ノート～災害と安全～高等学校』をもとに作成。）

問1 空らん【 あ 】～【 う 】にあてはまる語句をそれぞれ漢字2字で答えなさい。

問2 空らん にあてはまる年月日を答えなさい。

問3 下線部 に位置する函館市で盛んな産業を次のア～エから1つ選び、記号で答えなさい。

ア．酪農 イ．製紙・パルプ業 ウ．水産加工業 エ．製鉄業

問4 下線部 について、明石市の天文台を通る日本の標準時子午線は何度が答えなさい。

問5 下線部 を含む日本海側の気候の特色を説明した文として正しいものを次のア～エから1つ選び、記号で答えなさい。

ア．南東季節風の影響で、夏季の降水量が多い気候。

イ．南東季節風の影響で、冬季の降水量が多い気候。

ウ．北西季節風の影響で、夏季の降水量が多い気候。

エ．北西季節風の影響で、冬季の降水量が多い気候。

問6 下線部 について、三陸海岸に見られるリアス海岸はどのように形成されますか。空らん適切な説明を補い、次の文を完成させなさい。

() によって形成される。

問7 下線部 の年に、日本は国際連盟を脱退しました。そのきっかけとなった、1931年の出来事を漢字4字で答えなさい。

問8 下線部 の年は日米安保条約をめぐる安保闘争が起き、民衆が国会を取り囲むという出来事がありました。国会に関する文として誤っているものを次のア～エから1つ選び、記号で答えなさい。

ア．本会議では党首討論がおこなわれます。

イ．憲法改正の発議は、衆議院が先に審議します。

ウ．常会は、1月中に召集され毎年1回おこなわれます。

エ．弾劾裁判や国政調査をおこないます。

問9 下線部 について、伊豆大島付近を流れる海流を次のア～エから1つ選び、記号で答えなさい。

ア．日本海流 イ．対馬海流 ウ．千島海流 エ．リマン海流

問10 下線部 について、次の問いに答えなさい。

(1) 火山活動によって地表が陥没^{かんぼつ}してできたくぼ地を何といいますか。
カタカナで答えなさい。

(2) 熊本県に位置し、大規模な(1)を形成している火山を次のア～エから1つ選び、記号で答えなさい。

ア．桜島 イ．霧島山 ウ．阿蘇山 エ．有珠山

問11 下線部 の年に起きた湾岸戦争やソ連の崩壊^{ほうかい}後、各地で起きた地域紛争^{ふんそう}により、多くの難民が発生しました。2000年末まで国連難民高等弁務官として難民問題の解決のために努力した日本人を次のア～エから1つ選び、記号で答えなさい。

ア．緒方貞子 イ．黒柳徹子 ウ．中村哲 エ．天野之弥

問12 下線部 について、紀伊半島沖で沈没したイギリスの貨物船のなまえを答えなさい。なお、この沈没事件で日本国内では治外法権^{てっばい}の撤廃運動が盛り上がりました。

問13 下線部 について、江戸時代末期にこの地域で発生した、民衆が歌いおどる騒動^{そうどう}を何といいますか。

- ③ 友子さんと町子さんのクラスではSDGsについて学習して、その中で「食の問題」に関して発表することになりました。次のレポートは、二人が作成したものの一部です。これについて、あとの問いに答えなさい。

< 友子さんのレポート（一部） >

【関連するSDGsの目標】12「つくる責任 つかう責任」

【問い】日本では、農作物の輸入が増えている一方で、なぜ大量の食品ロスが生じているのだろうか。

【調べたこと】

- ・日本の 食料自給率は下がっており、農作物の輸入が増えている。
米は自給しているが、消費量は減っている。自給率の低下には特に 高度経済成長期以降、日本人の食生活が変わり、肉類や乳製品の消費が増えたことが関係している。農林水産物の輸入が増えると、海外の生産地の環境へ影響を及ぼす可能性がある。
- ・[あ]省の推計によると、まだ食べられるにもかかわらず捨てられた食品ロスの量は、年間約600万トンにも達するという。廃棄が増えている原因は、スーパーマーケットやレストランなどの小売店などから出る 「事業系食品ロス」と、家庭などで出る食べ残しなどの「家庭系食品ロス」の2つに分けられると分かった。

【考えたこと】

- ・2018年12月に発効された「TPP11協定」などにより参加国間での [い] が撤廃されると海外の農作物が輸入しやすくなり、さらに食料自給率が低下するのではないかと。
- ・世界中で発生する異常気象や国際情勢の変化によって輸入が制限されれば、日本も食料不足におちいるかもしれない。食品ロスを抑えて、必要以上に輸入しないことが求められているのではないかと。

< 町子さんのレポート（一部） >

【関連するSDGsの目標】1「^き飢餓をゼロに」

【問い】世界では飢餓に苦しむ人々が増えている一方で、なぜ世界でも食品ロスが増えているのだろうか。

【調べたこと】

- ・ 国連農業機関（FAO）などの国際連合の5機関の報告によると、現在、世界では約7億人から8億人もの人が、飢餓に苦しんでいる。
- ・ 飢餓の原因は、自然災害による農作物への被害や、紛争の影響を受け、また、貧困から抜け出せず、仕事など生活基盤が失われたりすることで飢餓が起こることもある。飢餓の影響で、子どもの発達が妨げられていることも大きな問題である。
- ・ 開発途上国でも先進国同様に、食品ロスが生じている。この原因は、農作物を生産しても農業技術不足で収穫ができない、また流通環境や保存設備や農作物の輸送手段がないことである。
- ・ 農作物が捨てられると、資源が^{むだ}無駄になるだけでなく、処理をすることで地球温暖化の原因となる[う]ガスが発生し、さらなる自然災害につながる可能性がある。

【考えたこと】

- ・ 今後は世界全体の人口が増加することで、ますます食料生産が追いつかなくなることも考えられるのではないか。
- ・ 日本が 開発途上国にできる支援として、青年海外協力隊など、日本が農業技術を伝えることも必要なのではないか。

問1 空らん[あ]～[う]にあてはまる語句をそれぞれ漢字で答えなさい。ただし[あ]は、食料の安定供給を行う政府の省庁があてはまります。

問2 下線部 について、次の資料はその移り変わりを表したものです。

これについてあとの問いに答えなさい。

<資料：品目別の食糧自給率の推移（％）>


	1960年	1980年	2000年	2005年	2010年	2015年	2019年
穀物	82	33	28	28	27	29	28
米	102	100	95	95	97	98	97
ア	39	10	11	14	9	15	16
イ	28	4	5	5	6	7	6
ウ	100	97	81	79	81	80	79
エ	100	81	44	41	38	41	38
肉類	91	81	52	54	56	54	52
鶏卵	101	98	95	94	96	96	96
牛乳・乳製品	89	82	68	68	67	62	59

（『日本国勢図会2021 / 22』をもとに作成。）

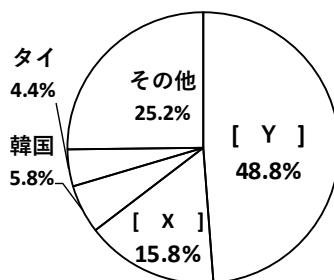
（1）資料中のア～エは、果物・小麦・大豆・野菜のいずれかを表しています。果物にあてはまるものをア～エから選び、記号で答えなさい。

（2）小麦・野菜・大豆について、次の～はそれぞれの日本の輸入先を表したグラフです。[X] [Y]にあてはまる国名を下のア～オからそれぞれ選び、記号で答えなさい。

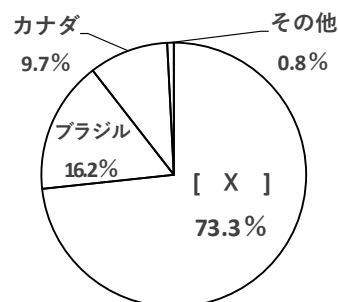
小麦



野菜



大豆



（『日本のすがた2021』をもとに作成。）

ア．中国

イ．ロシア

ウ．イギリス

エ．アメリカ合衆国

オ．ニュージーランド

問3 下線部 について、米は古くから日本の主食であり、国が税として納めさせていました。次の問いに答えなさい。

(1) 税制度について述べた次の文ア～エを年代順に並べなさい。

ア．全国の土地を測量し、地価を定め、その所有者に地券を発行しました。地価の3%にあたる額を地券の所有者に現金で納めさせました。

イ．口分田の不足から、国は農民に開墾^{かいこん}をすすめ、新しく開墾した土地を永久に私有することを認めました。

ウ．耕作地を農民一人ずつに口分田として与え、帳簿^{ちょうぼ}に登録しました。収穫の一部を税として国に納めることを義務づけました。

エ．統一された枒^{ます}やものさしで土地の面積や収穫高を計り、また土地の耕作者を調べて検地帳に記しました。これによって、土地の収穫高に応じて土地の耕作者から税をとりたてるようにしました。

(2) 第二次世界大戦後、農村の民主化を図るため、地主のもつ農地を小作人に安く売り渡しました。このことを何といいますか。漢字で答えなさい。

問4 下線部 について、次の問いに答えなさい。

(1) 池田勇人内閣が経済成長を実現するために十年間で国民の所得を倍にするという計画を発表して以来、日本は急速な経済発展を果たしました。この経済計画を何といいますか。漢字で答えなさい。

(2) この時期について述べた文として誤っているものを次のア～オから2つ選び、記号で答えなさい。

ア．この経済成長によって、日本の国民総生産(GNP)はアメリカ合衆国に次ぐ世界第2位になりました。

イ．株価や地価が異常に上昇したことによって、バブル景気という実態をとまなわない好景気が訪れました。

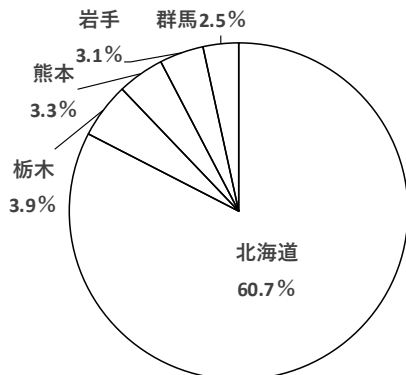
ウ．都市部では人口が流入して過密化が起こり、農村部では過疎化の問題が起きました。

エ．東京オリンピックが開催され、東海道新幹線や東名高速道路などの高速交通網が整備されました。

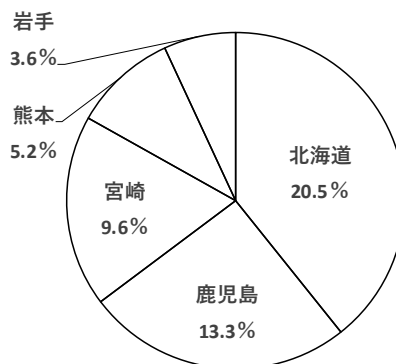
オ．電化製品が急速に家庭に普及し、特に洗濯機・カラーテレビ・乗用車は「3C」と呼ばれました。

問5 下線部 について、次のグラフは各都道府県の肉牛・乳牛・豚・ブローラーのそれぞれの飼育数の割合を表したものです。肉牛の飼育数にあてはまるものをア～エから1つ選び、記号で答えなさい。

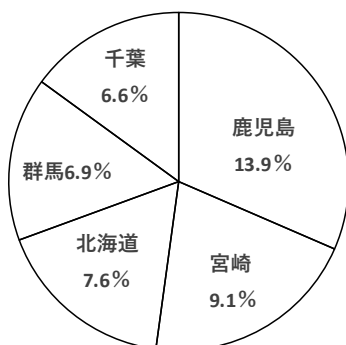
ア .



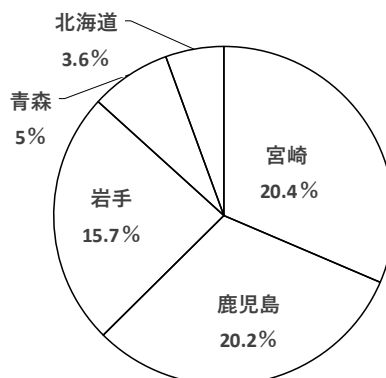
イ .



ウ .



エ .



(『日本国勢図会2021/22』をもとに作成。)

問6 下線部 について、事業系食品ロスを防ぐために、消費者としてあなたができる身近な取り組みの例を1つ挙げ、答えなさい。

問7 下線部 について、国際紛争が起きている地域に国際連合が軍を派遣して、紛争の拡大や悪化を防いでいます。このような活動をなんといいですか。次のア～エから1つ選び、記号で答えなさい。

ア . ODA イ . ILO ウ . PKO エ . NPO

問 8 下線部 について、1989年に国際連合では次の権利が明記された条約が採択さいたくされました。これについて、あとの問いに答えなさい。

第 2 条 a 人種や性別、宗教などどんな差別も禁止します。

第 3 条 子どもの幸福を一番に考えます。

第 12 条 子どもは、b 自由に自分の意見を述べる権利があります。

第 19 条 親の暴力や不当な扱いから、子どもを守ります。

第 38 条 子どもを戦争に巻き込みません。

(1) この条約のなまえを答えなさい。

(2) 下線部 a ・ b は、日本国憲法が定める基本的人権とも関わりがあります。あてはまるものを次のア～カからそれぞれ選び、記号で答えなさい。

ア．経済活動の自由

イ．身体の自由

ウ．精神の自由

エ．法の下での平等

オ．労働基本権

カ．教育を受ける権利

問 9 下線部 について、開発途上国に行う支援として、飢えや栄養不良に苦しむ子どもたちに対して食料・衣料品などの援助をおこなっている国際連合の機関を次のア～エから 1 つ選び、記号で答えなさい。

ア．ユ ネ ス コ U N E S C O

イ．ユ ネ ッ プ U N E P

ウ．ア ン ク タ ッ ド U N C T A D

エ．ユ ニ セ フ U N I C E F

問10 次の会話文は、調べたことをもとに話し合ったものです。これについて、あとの問いに答えなさい。

先生： 二人の発表では日本でも世界でも「食品ロスが多い」ことが共通のテーマとして挙げられていましたね。

友子： はい。私は、食品ロスを減らすために、日本ではさらに「地産地消」をすすめることが必要だと考えました。

町子： どうしてそのように考えたのですか。

友子： 地産地消をすすめることは、地域の農業を応援することになり、食料自給率を上げることができると思うからです。また、地産地消は、環境を守ることにもつながります。なぜなら、【 X 】。

町子： なるほど。さまざまなよい影響があるのですね。

友子： 町子さんのレポートでは開発途上国でも食品ロスが発生していることを知り驚きました。私たちができることはないでしょうか。

町子： 支援について調べていると「エシカル消費」という言葉を聞きました。環境や人権に対して十分配慮^{はいりょ}された商品やサービスを選択し、^{こうにゅう}購入することを表す言葉だそうです。

友子： 私も町子さんを見習って【 Y 】を実践しようと思います。

(1) 空らん【 X 】にあてはまる文を次の語群の語句をすべて用いて、答えなさい。

語群【 輸送 輸入品 】

(2) 空らん【 Y 】に入れる文として誤っているものを次のア～エから1つ選び、記号で答えなさい。

ア．環境への負荷が少ない方法で生産された油脂を使用した洗剤を買うこと。

イ．品質を重視した栽培や出荷につなげるために、形のゆがみや傷のない野菜や果物を買うこと。

ウ．開発途上国の生産者や労働者の生活改善につなげるために、開発途上国の原料や製品を適正な価格で継続的に買うこと。

エ．コロナ禍で売り上げが下がり、打撃を受けている事業者・生産者の商品を調べて、積極的に買うこと。