

2023 年度 普連土学園中学校

入学試験問題

2023 年 2 月 1 日実施

社 会

1 日午前 4 科

1. 問題に答える時間は 30 分です。
2. 問題は、～ まであります。
3. 答はすべて、「解答用紙」に記入しなさい。
4. 「解答用紙」は中に 1 枚はさんであります。



問題は、次のページから始まります。

1 次の会話文を読んで、あとの問いに答えなさい。

友子： 先日姉から、「急がば回れ」ということわざの語源に琵琶湖が関係しているということを教えてもらいました。

先生： 室町時代の歌人の和歌で琵琶湖の交通手段について記されていたことから生まれたと言われてはいますからね。①天智天皇（中大兄皇子）が琵琶湖のほとりに都をうつしたことをはじめ、歴史とも関わりがありますよ。現在では、大切な水資源として利用されています。どのような目的に利用されているか知っていますか。

友子： 生活用水ですか。

先生： その通りです。②生活用水のほかにも、農業用水や工業用水にも利用されています。では、琵琶湖も含めた面積の大きい湖を上位から10カ所確認しましょう。

なまえ	面積 (km <sup>2</sup> )	所在地
琵琶湖	669.3	③滋賀県
霞ヶ浦	168.2	④茨城県
(あ)湖	151.6	⑤北海道
(い)湖	103.2	福島県
中海	85.7	⑥島根県・鳥取県
屈斜路湖	79.5	北海道
宍道湖	79.3	島根県
支笏湖	78.5	北海道
洞爺湖	70.7	北海道
浜名湖	64.9	静岡県

(『日本国勢図会2022/23』をもとに作成。)

先生： (あ)湖ではホタテの養殖、宍道湖ではしじみ漁を行うなど、湖は漁業でも活用されています。(い)湖は安積疏水の源流として先ほど挙げた利用目的に用いられています。また、中海は、近くにある⑦境港の漁船を泊めるのに利用されることもあります。

友子： 歴史的な話でいうと、中海は「入海」として⑧「風土記」にの  
っていると聞いたことがあります。

先生： よく知っていますね。

友子： ところで、湖はどのようにしてできたのでしょうか。

先生： いろいろありますね。例えば、北海道にある屈斜路湖・支笏湖  
・洞爺湖は、いずれも  X  形成されたカルデラ湖です。

友子： なるほど。地理的にも歴史的にも重要な湖をこれからも大切に  
していきたいです。

問1 空らん ( あ ) ( い ) にあてはまる湖のなまえをそれぞれ答  
えなさい。

問2 空らん  X  にあてはまる説明を次のア～エから1つ選び、記号  
で答えなさい。

ア. 火山が噴火してできたくぼ地に水がたまって

イ. 海水の流れによって運ばれた砂が湾をせきとめて

ウ. 断層によってできたくぼ地に水がたまって

エ. 地すべりや火山からの噴出物などによって川がせきとめられて


問3 下線部①の人物について、次の問いに答えなさい。

(1) この人物とともに645年に蘇我氏をたおした人物のなまえを答えな  
さい。

(2) この人物の死後、次の天皇の位をめぐって起きた争いを何とい  
いますか。

問4 下線部②に関連して、次の<資料1><資料2>中のア～ウは農業用水・工業用水・生活用水のいずれかを表しています。工業用水を表しているものをア～ウから1つ選び、記号で答えなさい。

<資料1：全国の用水の利用割合>



(『日本国勢図会2022/23』をもとに作成。)

<資料2：各地方別の用水の利用割合(2016年)>

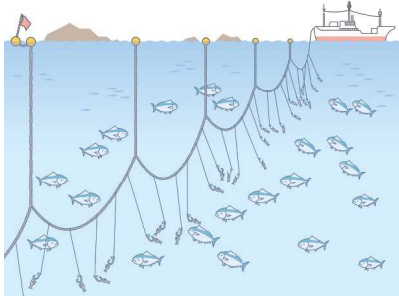
地域	ア	イ	ウ
東北	85.8%	7.4%	7.0%
関東	54.3%	33.4%	12.3%
東海	54.0%	22.8%	23.2%

(『2022データブック・オブ・ザ・ワールド』をもとに作成。)

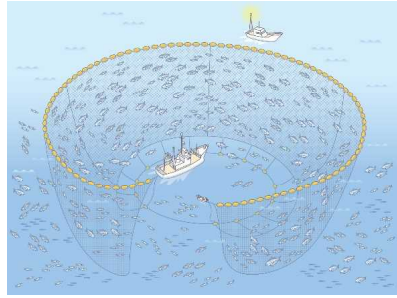
問5 表中の下線部③滋賀県・④茨城県・⑤北海道・⑥島根県の県庁所在地を、それぞれ漢字で答えなさい。

問6 下線部⑦の港はいわしの水揚げ量が多いです。次の図ア～エのうち、いわしの漁獲に用いられる漁法を1つ選び、記号で答えなさい。

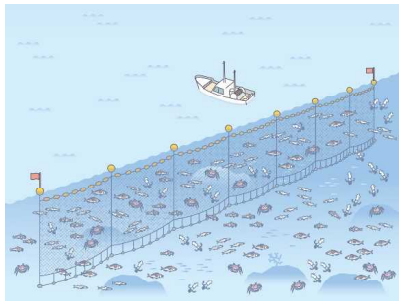
ア.



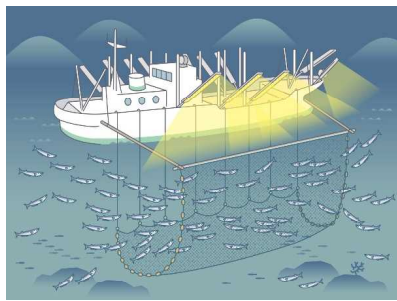
イ.



ウ.



エ.



問7 下線部⑧について、「風土記」作成が命じられたのは713年のことでした。700年代前半の日本について述べた次の文ア～カから正しいものを3つ選び、記号で答えなさい。

ア. 701年に刑部親王と藤原不比等によって、唐の決まりを手本とする大宝律令が作られました。

イ. 律令制度のもとで、九州の行政・外交や防人の管理を行う役所として太政官が設置されました。

ウ. 710年に唐の長安を手本として平安京が完成されました。

エ. 朝廷は、6歳以上の男女に口分田を分け与えて税を納めさせる班田収授を行いました。

オ. 国の成り立ちを明らかにしようとして、712年に太安万侶と稗田阿礼により「日本書紀」が書かれました。

カ. 大伴家持を中心に「万葉集」が編さんされ、当時の苦しい農民の生活をうたった山上憶良の貧窮ひんきゅうもんどう問答歌も収められています。

**2** 次の文章を読んで、あとの問いに答えなさい。

2022年2月、ロシアがウクライナに侵攻しました。ロシア軍の攻撃により多くの方が亡くなり傷ついています。また、①国外へ逃れる人々もいます。ウクライナは②小麦の栽培が盛んでしたが、紛争の影響で小麦の収穫量は減り、輸出も難しくなったため、世界的に小麦の価格は上昇しました。さらに、③急激な円安が進みました。そのため、日本でも食品などさまざまな物の価格が上昇しました。物価が上がっても賃金が上がらなければ生活は苦しくなります。そのため、④消費税の減税を訴える政党もあります。

ロシアは核兵器を持っており、核兵器を使用するのではないかと多くの国が恐れています。核兵器が二度と使われないようにするために、⑤唯一の被爆国である日本には大きな役割があるといえるでしょう。

ウクライナはかつてソビエト連邦（ソ連）の一部でした。ソ連はロシア革命によって成立した国家で、1991年まで存在していました。ロシア革命が起こると社会主義の拡大を恐れる国が干渉し、日本も軍隊を派遣しました。この出来事や第一次世界大戦が長引いたことで米の価格が上昇し、富山県で始まった（あ）は全国に広がりました。

ソ連が成立した1922年には日本では部落差別の撤廃を目指した人たちによって（い）宣言が出されました。この時代は大正デモクラシーとよばれ、民主主義を求める動きが高まり、1925年には普通選挙が実現しました。（い）宣言から100年以上が経ち、日本国憲法には差別を禁止する規定がありますが、現在も⑥さまざまな差別に苦しんでいる人がたくさんいます。国会でも差別を解消するための法律が制定されていますが、差別の解消を訴えて裁判を起こしている人もいます。ひとりひとりが幸せに暮らせる社会を作るためにはどのようなことが必要なのか、私たちも考えなければなりません。

問1 空らん（あ）（い）にあてはまる語句を答えなさい。



問2 下線部①のように、安全を求めて他国に逃れる人たちを難民と呼びます。難民を支援するために1950年に設立された国連の機関の略称をア～エから1つ選び、記号で答えなさい。

- ア. UNHCR           イ. UNESCO  
ウ. UNICEF       エ. UNCTAD

問3 下線部②に関連して、次の表は都道府県ごとの小麦の収穫量と全国に占める割合を表したものです。Xにあてはまる県名を、次のア～エから1つ選び、記号で答えなさい。

<小麦の収穫量と全国に占める割合(2021年)>

都道府県	収穫量(t)	割合(%)
北海道	728,400	66.4
X	78,100	7.1
佐賀県	56,700	5.2
愛知県	29,400	2.7
三重県	22,800	2.1
その他	181,890	16.5

(「作物統計調査」より作成。)

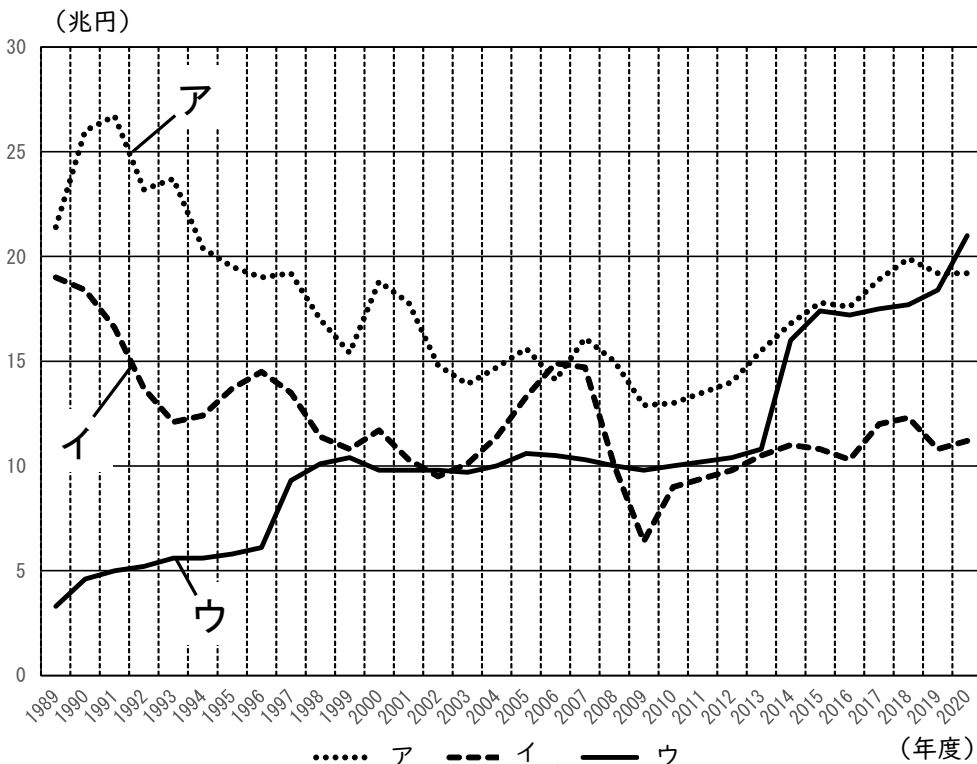
- ア. 和歌山県   イ. 福岡県   ウ. 新潟県   エ. 高知県

問4 下線部③に関連して、円安についての正しい説明を次のア～エから1つ選び、記号で答えなさい。

- ア. 円の価値が上がり、輸入品が値上がりする。  
イ. 円の価値が上がり、輸入品が値下がりする。  
ウ. 円の価値が下がり、輸入品が値上がりする。  
エ. 円の価値が下がり、輸入品が値下がりする。

問 5 下線部④について、次のグラフは消費税、所得税、法人税の税収の変化を表したものです。消費税にあてはまるものを次のア～ウから1つ選び、記号で答えなさい。

＜一般会計税収（決算額）の変化＞



(財務省「一般会計税収の推移」より作成。)

問 6 下線部⑤に関連して、2022年8月、広島で行われた平和記念式典に12年ぶりに国連の事務総長が出席しました。次の文はそのときのスピーチの一部です。

希望の光はあります。6月には  <sup>ていやくこく</sup> の締約国が初めて集い、終末兵器（注1）のない世界に向けたロードマップを策定しました。そしてまさに今、ニューヨークでは、 の第10回運用検討会議（注2）が開催されています。本日、私は、この神聖な場所から、この条約の締約国に対し、私たちの未来を <sup>おびや</sup>脅かす兵器の備蓄を廃絶するために緊急に努力するよう呼びかけます。

（注1）核兵器のこと  
 （注2）締約国が集まる会議で、再検討会議ともいう

(1) 文中   にあてはまる条約を次のア～エからそれぞれ1つ選び、記号で答えなさい。

- ア. 核拡散防止条約                      イ. 部分的核実験禁止条約  
ウ. 包括的核実験禁止条約              エ. 核兵器禁止条約

(2) 波線部の会議には、岸田首相が日本の内閣総理大臣としてはじめて参加しました。内閣の仕事として誤っているものを次のア～エから1つ選び、記号で答えなさい。

- ア. 予算案を作って国会に提出する。  
イ. 天皇の国事行為に助言や承認を与える。  
ウ. 外国と条約を結ぶ。  
エ. 最高裁判所の長官を任命する。

問7 下線部⑥について、次の問いに答えなさい。

(1) 近年マイクロアグレッションという考え方が注目されています。これは、日常のなにげない言葉の中にあられる、無意識の偏見や差別のことです。次の文には、どのような偏見や差別が隠れているか説明しなさい。

女の子なのに理科や算数が得意なのはすごいね。

(2) 次のAは文書でよく使われる書体です。Bは教科書などにも使われることがある書体で、すべての人が読みやすいように作られています。このように、年齢や障害の有無などに関係なく、はじめから誰もが利用しやすいように、物やサービスを工夫する考え方を何といいますか。

A

普連土

B

普連土

③ 次の会話文を読んで、あとの問いに答えなさい。

時期	政治の中心地	政治権力をにぎった勢力
710年	平城京	藤原氏など
794年	平安京	藤原氏
1192年	相模国の鎌倉	鎌倉幕府（初代将軍は（あ））
1338年	京都の室町	室町幕府（初代将軍は足利尊氏）
1603年	武蔵国の江戸	江戸幕府（初代将軍は徳川家康）
1868年	東京	明治政府

友子： この表は、日本の歴史上で政治の中心地だった場所とその時に政治を担当していた勢力をまとめたものです。

町代： 平城京は現在の（い）県に作られた都ですね。

友子： そうです。この時代は、①律令制度と呼ばれる②中国から導入した制度にもとづいて政治がおこなわれていました。

町代： 次の平安京も藤原氏が政治を担当していたのですね。

友子： はい。③藤原道長の時代に最盛期をむかえています。

町代： 平安時代のあとは、幕府の時代になりますね。

友子： 関東地方で平将門が反乱をおこした頃から、武士の力が強くなっていきました。幕府は、朝廷から④征夷大將軍という役職をもらうことでつくることができました。

町代： 3つの幕府には違いがありますね。

友子： まずは、幕府を設置した場所です。例えば、鎌倉幕府が置かれた鎌倉は、という地形的特徴があったため選ばれたと考えられます。室町時代に京都に幕府が置かれた理由は、朝廷が南北朝に分裂していたことも影響しているのではないのでしょうか。

町代： 徳川家康が⑤江戸に幕府を開いたのは、豊臣秀吉によって本拠地である⑥東海地方から関東地方に移動させられたのも影響しているかもしれませんね。

友子： 幕府の権力をにぎった人々も違いますね。鎌倉幕府では、北条氏が  という立場で権力をにぎりました。室町幕府では足利氏の将軍が15代続きましたが、有力な守護大名に実権をにぎられていました。

町代： 江戸幕府最後の将軍が大政奉還をすることで、幕府はなくなりますね。そして⑦ 長州藩 や薩摩藩を中心に明治政府ができます。明治政府は、政治の中心として京都ではなく江戸を選択しました。名称を東京に変更し、天皇が江戸城に引っ越すことで、東京が政治の中心となりました。

友子： そして東京が政治の中心となって約20年後、私たちの普連土学園がつくられることになりますね。

問1 (あ)(い)にあてはまる語句をそれぞれ漢字で答えなさい。

問2 文中  に入る次の文の空らんにあてはまることばをそれぞれ答えなさい。

三方を (ア) で囲まれていて、(イ) やすい

問3 文中  にあてはまる語句として正しいものを次のア～エから1つ選び、記号で答えなさい。

ア. 管領    イ. 摂政    ウ. 執権    エ. 老中

問4 下線部①について、律令制度での民衆の負担を説明した文として正しいものを次のア～エから1つ選び、記号で答えなさい。

ア. 口分田から集められた租は、都まで運ぶ必要がありました。

イ. 各地の特産物である調が、中央に集められました。

ウ. 庸は、都で1年警備をする労役でした。

エ. 国司のもとでの労働を、衛士と呼びました。

問5 下線部②に関連して、遣唐使についてまとめた次の文を読んで、あとの問いに答えなさい。

630年の第1回遣唐使から、使者に選ばれた（ア）の意見で894年に停止されるまで、十数回にわたって派遣されました。遣唐使の航路は最初は北路を通っていましたが、朝鮮の国の一つである（イ）との関係が悪化してからは、東シナ海をわたる南路に変わりました。

(1) 空らん（ア）（イ）にあてはまる語句をそれぞれ漢字で答えなさい。

(2) 波線部には水深約200メートルまでの浅いなだらかな海底が広がっています。これを何といいますか。

問6 下線部③の人物の詠んだ歌として正しいものを次のア～エから1つ選び、記号で答えなさい。

ア. 天の原 ふりさけみれば 春日なる 三笠の山に いでし月かも

イ. この世をば 我がよとぞ思う 望月の かけたることも  
なしと思えば

ウ. 五月雨を あつめて 早し 最上川

エ. から衣 すそに取りつき 泣く子らを 置きてぞ来ぬや  
母なしにして

問7 下線部④に関連して、桓武天皇に任命されて蝦夷を攻撃した人物のなまえを漢字で答えなさい。

問8 下線部⑤に関連して、江戸時代に流行した次の浮世絵を見て、あとの問いに答えなさい。

A



B



(1) Aは大きな川を渡るために、人々が渡し場を利用している様子が描かれています。江戸幕府は意図的に大きな川には橋をかけませんでした。その理由を10字以上15字以内で説明しなさい。

(2) Bは葛飾北斎の浮世絵で、諏訪湖から見た富士山が描かれています。富士山は諏訪湖からどの方角にありますか。次のア～エから1つ選び、記号で答えなさい。

ア. 北東    イ. 北西    ウ. 南東    エ. 南西

問9 下線部⑥に関連する文として誤っているものを次のア～エから1つ選び、記号で答えなさい。

- ア. 静岡県焼津では、遠洋漁業が盛んです。
- イ. 愛知県常滑では、漆器の生産が盛んです。
- ウ. 三重県四日市には、石油化学コンビナートが広がっています。
- エ. 静岡県浜松では、ピアノの生産が盛んです。

問10 下線部⑦について、瀬戸内工業地域でセメント生産が盛んな山口県の都市を次のア～エから1つ選び、記号で答えなさい。

ア. 津久見市    イ. 宇部市    ウ. 秩父市    エ. 八戸市

4 次の資料 1・2 について、あとの問いに答えなさい。

<資料 1：日本国内の在留外国人数の変化>

国名	1990年	2000年	2005年	2010年	2020年
中国	150,339	335,575	519,561	687,156	778,112
ベトナム	6,233	16,908	28,932	41,781	448,053
韓国・朝鮮	687,940	635,269	598,687	565,989	426,908
フィリピン	49,092	144,871	187,261	210,181	279,660
ブラジル	56,429	254,394	302,080	230,552	208,538
ネパール	—	3,649	6,953	17,525	95,982
インドネシア	3,623	19,346	25,097	24,895	66,832
合計（その他含む）	1,075,317	1,686,444	2,011,555	2,134,151	2,887,116

（『2022データブックオブ・ザ・ワールド』をもとに作成。）

<資料 2：現在の外国人の主な在留資格（2021年）>

	在留資格	人数	例	割合の高い国
1	永住者	817,805	日本在住10年以上	中国 フィリピン
2	技能実習	354,104	日本で技術を実習、建設現場や製造現場など	ベトナム 中国
3	特別永住者	300,441	第二次世界大戦中、日本国民とされた在日韓国・朝鮮・台湾人	韓国・朝鮮
4	技術・人文知識・国際業務	283,259	語学力や技術力を活用して働く人など	中国 ベトナム
5	留学	227,844	日本語学校、大学、専門学校の留学生	中国 ベトナム
6	定住者	199,288	日系人やインドシナ難民など	ブラジル フィリピン

（出入国在留管理庁ホームページをもとに作成。）

※在留資格とは、日本に入国し暮らす外国人に対し、その外国人が行う活動の内容などに応じて与えられる一定の資格を指します。



- 問1 <資料1>について、次の文ア～エは、中国、ベトナム、韓国・朝鮮、ブラジルのいずれかを述べた文です。ブラジルにあてはまるものを資料1・2を参考にして次から1つ選び、記号で答えなさい。
- ア. 特別永住者の割合が最も多いですが、近年は帰化する人も増えているため、減少傾向にあります。
- イ. かつては世界最大の日系人居住地であり、その日系人たちが法律の改正によって日本にやってくる、主に製造業などを担っています。2008年のリーマンショック以降、失業者が増え減少傾向にあります。
- ウ. 1993年に「技能実習制度」が制度化されてから、2020年まで増え続けており、2020年には全体の15%の割合を占めています。
- エ. 「永住者」や「技術・人文知識・国際業務」などの分野で働く人が多く、2020年現在では全体の25%以上の割合を占めています。

問2 <資料1>において、1990年から2020年までの間の増加率が最も高い東南アジアの国をあげなさい。

問3 <資料1>において、東南アジアの国々が大幅に増加している理由を、<資料2>を参考に次の語群の語句をすべて用いて説明しなさい。

**語群【 母国 賃金 労働 】**

問4 <資料2>に関連して、2019年4月には、今までは受け入れなかった工場作業などの単純労働分野でも、外国人労働者を正式に受け入れることが可能となりました。なぜ日本はこのように制度を変える必要があったのでしょうか。日本の人口問題に触れて、簡潔に説明しなさい。