

2023 年度 普連土学園中学校

入学試験問題

2023 年 2 月 4 日実施

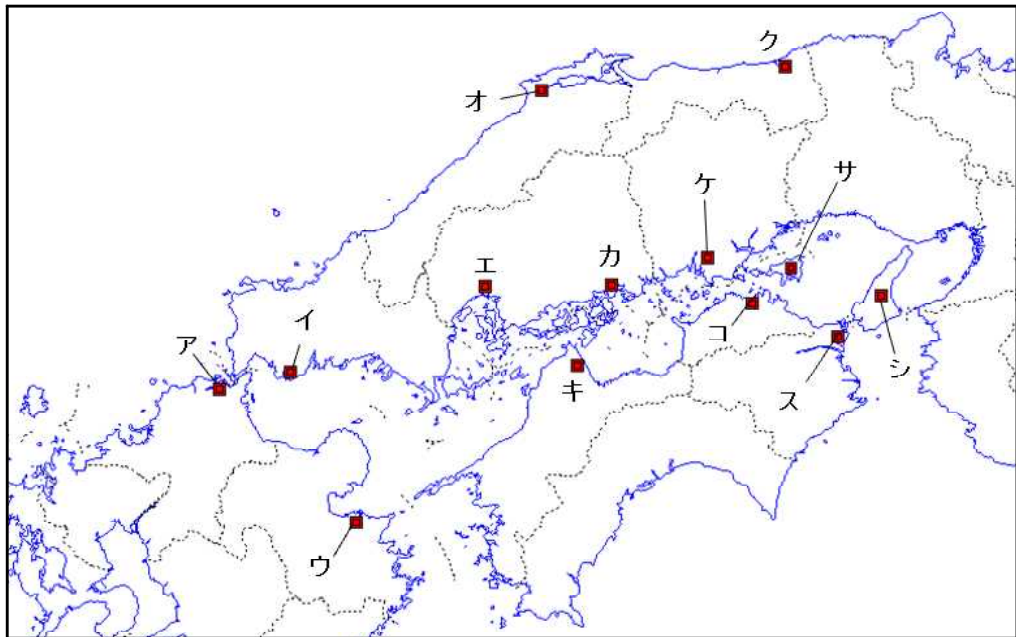
社 会

4 日午前 4 科

1. 問題に答える時間は 30 分です。
2. 問題は、～ まであります。
3. 答はすべて、「解答用紙」に記入しなさい。
4. 「解答用紙」は中に 1 枚はさんであります。

問題は、次のページから始まります。

- 1 友子さんは、神戸を出発して地図中の各地をめぐり、その記録を付けました。訪れた土地A～Hの記録について、あとの問いに答えなさい。



Aの記録： 神戸市から（あ）海峡大橋を渡ってAに到着した。瀬戸内海では最大面積の島で、人口は離島の中では最も多い約13万人だという。この島は酪農や漁業、タマネギ栽培などが有名で、食べものがおいしかった。播磨灘はりまなだの美しい夕日を見ることができた。

↓

Bの記録： Aとの間にはこの市名の由来になった（い）海峡があり、有名なうず潮をみることができた。その日は市内にある「（い）市ドイツ館」を訪問したことが印象に残っている。この地域には①第一次世界大戦当時、「板東俘虜収容所」ばんどうふりょしゅうようじょと呼ばれたドイツ人の収容所があり、日本で初めてベートーヴェンの交響曲第9番の演奏が行われたことを初めて知った。

↓

Cの記録： 歴史の授業で聞いた②源平合戦の一つである屋島の戦いが行われた場所である。屋島の古戦場は、当時は海に囲まれた島だったそうだが、現在は陸続きになっていたことに時の流れを感じた。ここからは1988年に開通した橋を通る鉄道を利用して、Dへ向かう。

↓

Dの記録：江戸時代に幕府が直接支配をしたことがきっかけで栄えた街で、白壁の歴史ある街並みがとてもきれいだった。臨海部には重化学工業地域が形成されており、工場夜景も美しかった。また、デニムストリートがあり、そこでお土産をたくさん買った。

↓

Eの記録：Dのある県の県庁所在地から（う）新幹線を使って、すぐに到着した。2023年の③G7サミットがこの地で開催されるらしい。歴史の授業で太平洋戦争のことを学んで以来、訪れてみたかった原爆ドームに行くことができた。

↓

Fの記録：歴史的な街並みが残っていた。江戸時代には北海道と大阪を結び、昆布やにしんを運ぶ（え）船が寄港していたそうだ。ここからは自転車を使って島々をめぐりながらGへ向かおう。

↓

Gの記録：来島海峡大橋を渡ってたどり着いた。自転車で島々を渡ると、レモンやみかんの畑が見られたが、④この地の気候に合わせて栽培されたのだろう。伊予国府が置かれていたこの地は、近年はタオルや造船などの産業が有名である。お土産にタオルを買った。明日はこの県の県庁所在地の（お）市に移動してフェリーに乗って九州に行く。

↓

Hの記録：（お）の港を出発してから瀬戸内海に出て最後は（か）海峡を渡って小倉港に着いた。ついに九州に上陸だ！この地にはかつて官営八幡製鉄所が設置され、日本国内最大の鉄鋼供給地として工業が発達したそうだ。

問1 A～Hの記録は、それぞれどの地点について書かれたものですか。地図中のア～スからそれぞれ選び、記号で答えなさい。

問2 文中の（あ）～（か）にあてはまる語句をそれぞれ漢字2字で答えなさい。

問3 下線部①について、日本にドイツ人の俘虜（捕虜）<sup>ほりよ</sup>収容所ができた経緯を述べた次の文の（ア）～（ウ）にあてはまる語句を答えなさい。

1914年、日本は同盟国である（ア）の求めに応じる形でドイツに宣戦布告し、ドイツの中国における拠点であった（イ）半島の青島を攻めました。青島を守備するドイツ兵は少数であったため戦闘は短期間で終了しましたが、これにより4,500人を超えるドイツ人俘虜が生じ、日本各地の収容所に移されました。その後ドイツとの講和条約である（ウ）条約締結によって本国に送り返される1920年まで、ドイツ人俘虜は収容所で生活しました。

問4 下線部②について、次のア～ウの戦いを古い順に並び変えなさい。  
ア. 屋島の戦い      イ. 壇ノ浦の戦い      ウ. 富士川の戦い

問5 下線部③について、この参加国として誤っているものを次から2つ選び、記号で答えなさい。

ア. ロシア      イ. フランス      ウ. 中華人民共和国  
エ. イギリス      オ. アメリカ合衆国      カ. イタリア

問6 下線部④について、この地域の気候を正しく述べたものを次から選び、記号で答えなさい。

ア. 山地によって季節風が遮<sup>さえぎ</sup>られるため、一年を通して降水量が少なく温暖である。  
イ. 北東季節風の影響を受けるため、冬に降水量が多い。  
ウ. 南東季節風の影響を受けるため、夏の降水量が多い。  
エ. 1年の気温の差が大きく、特に冬の寒さが厳しい。

問題は次のページに続きます。

2 次の各カードは日本の地下資源との関わりについて説明したものです。カード1～3を読んで、あとの問いに答えなさい。

カード1 弥生時代、①稲作と同時に金属器が日本に伝わり社会が大きく変化しました。古墳時代には、大和政権が豪族を束ねるために、大陸や朝鮮半島から鉄を輸入します。古代の日本に地下資源がなかったわけではなく、飛鳥時代の終わりには武蔵国秩父に②銅が産出し、記念として、中国のものを真似た貨幣がつけられました。

カード2 鎌倉時代になると、日本は外国で「黄金の国ジパング」と紹介されました。これは奥州で豊かな砂金をもとに藤原氏が栄え、平泉に中尊寺金色堂が建立したことが伝わった影響と考えられます。

戦国時代となって、武将たちは領地の経済力を高めようと、鉱山の開発に積極的になります。徳川幕府が天下を治めると、③重要鉱山は直接の支配下に置かれ、金や銀、銅などが大量に採掘されました。

カード3 近代になると、エネルギー資源の中心は石炭になりました。明治時代の日本でも石炭の採掘量が増加します。明治政府は、重工業に力を入れ④官営八幡製鉄所を建設しました。産業の発達にともない、より多くの地下資源が必要となる傾向は高度経済成長でさらに加速します。そして現代にいたる地下資源を輸入に頼る産業構造を生み出しました。現在、世界では⑤資源やエネルギーの問題を再検討し、持続可能な社会を目指す必要があるとされていて、日本でも解決に向けて動き出しています。

問1 下線部①について説明した文として正しいものを次のア～エから1つ選び、記号で答えなさい。

- ア. 青銅器を農具に用いて深く耕し、土地が肥えて収穫が増えました。
- イ. 鉄器で稲穂の先を刈り取り、一度に作業する量を増やしました。
- ウ. 金属器が日本に伝わると、石器は使用されなくなりました。
- エ. 青銅器は銅鐸や銅剣など豊作を祈る祭りに用いられました。

問2 下線部②に関連して、次の問いに答えなさい。

(1) この時つくられた貨幣を次のア～エから1つ選び、記号で答えなさい。

ア.



イ.



ウ.



エ.

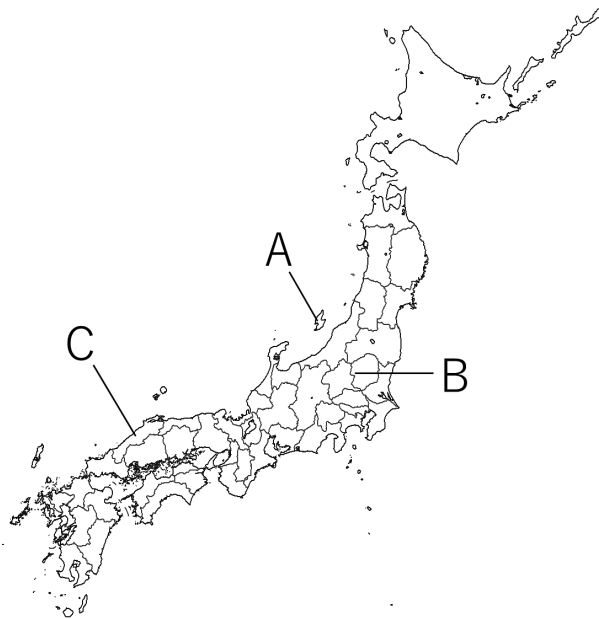


(2) 古代から中世までの貨幣について説明した文として、正しいものを次のア～エから1つ選び、記号で答えなさい。

- ア. 和同開珎は都で使用され、全国的には物々交換が主流でした。
- イ. 鎌倉時代には明銭が大量に輸入され、日本国内で流通しました。
- ウ. 貨幣の使用が増えると、平安時代には金貸しが登場しました。
- エ. 奈良時代以降も室町時代まで国内で貨幣がつけられました。

問3 下線部③について、次の問いに答えなさい。

(1) 地図中のA～Cの鉱山名をそれぞれ答えなさい。なおAは金、Bは銅、Cは銀が採れました。





(2) 次の表は、江戸時代の金貨の変化を表したものです。説明として正しいものを下のア～オから2つ選び、記号で答えなさい。

つくられた時期	小判	金の含まれる割合 (%)	1枚の重さ (g)
家康 (1600)	慶長小判	86.8	17.85
綱吉 (1695)	元禄小判	57.4	17.85
家継 (1715)	正徳小判	86.8	17.85
吉宗 (1716)	享保小判	86.8	17.85
家慶 (1837)	天保小判	56.8	11.25
家茂 (1860)	万延小判	56.8	3.30

(浜島書店『新詳日本史』をもとに作成。)

- ア. 5代将軍の時、金の含まれる割合がそれ以前と比較して減少しました。その結果、物価が下がり、経済は混乱しました。
- イ. 5代将軍の時、金の含まれる割合がそれ以前と比較して増加しました。これは、出費が増え過ぎて財政が苦しくなったためです。
- ウ. 7代将軍の時、金の含まれる割合が初代の時と同じ割合になりました。これはそれ以前の政治で混乱した経済を立て直すために、新井白石が考えました。
- エ. 14代将軍の時、金の含まれる割合が初代の時と比較して減少し、貨幣そのものも最も小さくなりました。これは開国して海外と貿易し混乱した経済に対応するためです。
- オ. 初代将軍と8代将軍、12代将軍の時、金の含まれる割合が同じになっていることから、初代将軍の政治を手本としたことがわかります。

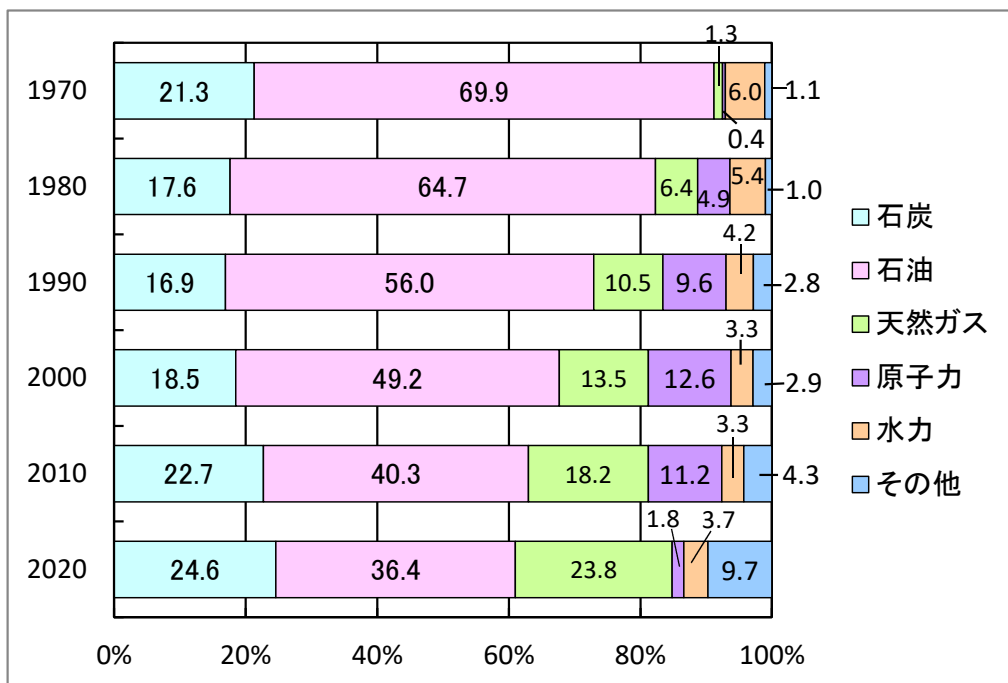
問4 下線部④について説明した次の文の空らんにあてはまる語句をそれぞれ漢字で答えなさい。

1901年に鉄の生産を開始しました。原料の(あ)は中国から主に輸入し、燃料の石炭は、九州北部の(い)炭田から採りました。原料と燃料が供給しやすい立地を活かして、製鉄を盛んに行い、やがて国内の鉄の約8割を生産するようになりました。

問5 下線部⑤に関連して、次のグラフはエネルギー供給の移り変わりを表しています。これらの割合の変化のうち、2010年から2020年の変化について語群の語句をすべて用いて説明しなさい。

語群【 原発事故 持続可能な社会 】

<エネルギーの供給割合の移り変わり>



(『日本国勢図会2022/2023』をもとに作成。)

**3** 次の会話文を読んで、あとの問いに答えなさい。

友子： 冬休みに上野動物園にパンダを見に行きました。2022年はパンダが日本に来て50年だったそうです。

先生： そうですね。①1972年に（ a ）との国交が回復したことを記念して、ランランとカンカンの2頭がやってきたんだよ。

町代： 1972年まで（ a ）との国交はなかったんですか。

先生： 1952年にサンフランシスコ平和条約が発効して日本は独立を回復したのだけど、（ a ）とはこの条約を結ぶことができず、国交がなかったんだ。

友子： 去年は沖縄返還から50年というニュースも見ました。

先生： アジア太平洋戦争で激しい地上戦によって多くの犠牲者<sup>ぎせいしや</sup>が出た沖縄は、日本が独立を回復した後も1972年まで、（ b ）に占領され続けたんだ。

町代： 沖縄には現在でも多くの軍事施設が集中していることも問題になっていますね。

先生： ②日本の安全をどう守るのかも大切な問題ですが、沖縄の人たちの思いを尊重することが大切ですね。

友子： 去年は日本で③鉄道が開業してから150年の節目の年でもありましたね。

町代： 普連土学園の近くには、鉄道開業当時の遺跡がありますね。

先生： 高輪築堤<sup>ちくてい</sup>ですね。現在再開発が進められていますが、④世界遺産の登録などを行う国際機関<sup>しもんきかん</sup>の諮問機関であるイコモスからは、国際的に重要な遺跡だとして保存を求められているんだよ。

友子： 鉄道といえば、去年は久しぶりに⑤東北新幹線に乗って祖父母の家を訪れたのですが、開業40周年のイベントを行っていました。

町代： 9月には新しい新幹線が開業しましたね。

先生： 新幹線は⑥全国新幹線鉄道整備法という法律に基づいて作られた整備計画に基づき建設されているんだよ。

友子： 祖父母の家の近くを走っているローカル線は乗客が減っていると聞きました。病院に通うのに使っているのでなくなると困ると言っていました。

先生： ⑦公共交通機関をどう守るかも大きな課題になっていますね。

友子： ⑧2022年7月には国会議員の選挙もありましたね。

先生： 衆議院の解散がなければ、次の国会議員の選挙は【 X 】年にありますね。18歳になると最高裁判所裁判官の【 Y 】もできるようになります。

町代： 成人年齢を定める法である【 Z 】が改正され、2022年の4月から、成人年齢が18歳になったというニュースも見ました。成人するとどんなことをできるようになるんですか。

先生： 一人暮らしの部屋を借りるなどの契約を、保護者の同意がなくても結ぶことができるようになります。みなさんもあと6年で18歳ですね。これから世の中のことをしっかり学んでいきましょう。

問1 空らん（ a ）（ b ）にあてはまる国名を、次のア～オからそれぞれ選び、記号で答えなさい。

- ア. アメリカ合衆国      イ. イギリス      ウ. 中華人民共和国  
エ. ロシア連邦          オ. 大韓民国

問2 空らん【 X 】～【 Z 】にあてはまる年号や語句を答えなさい。ただし、【 X 】は西暦で答えなさい。

問3 下線部①について、（ a ）の国と国交が回復したときの内閣総理大臣は誰ですか。次のア～エから1つ選び、記号で答えなさい。

- ア. 吉田茂      イ. 佐藤栄作      ウ. 田中角栄      エ. 小泉純一郎

問4 下線部②に関連して、次の文は日本国憲法第9条の条文です。空らん（ ア ）（ イ ）にあてはまる語句を答えなさい。

- ①日本国民は、正義と秩序を基調とする国際平和を誠実に希求し、  
国権の発動たる戦争と、（ ア ）による威嚇又は（ ア ）の行使  
は、国際紛争を解決する手段としては、永久にこれを放棄する。  
②前項の目的を達するため、陸海空軍その他の（ イ ）は、これを  
保持しない。国の交戦権は、これを認めない。

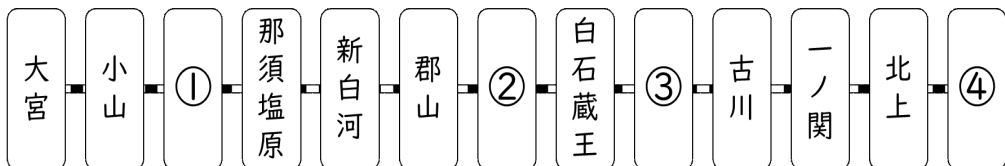
問5 下線部③に関連して、お菓子のパッケージに次のマークがついているのを見つけました。このマークは商品を輸送する時に、トラックよりも二酸化炭素の排出量が少ない貨物列車を一定の割合以上利用している場合に商品につけることができます。貨物輸送をトラックから鉄道などに転換することを何といいますか。



問6 下線部④について、この国際機関を次のア～エから1つ選び、記号で答えなさい。

- ア. WTO    イ. UNICEF    ウ. WHO    エ. UNESCO

問7 下線部⑤について、次の図は開業時の東北新幹線の路線図です。空らん①～④にふさわしい駅名を次のア～コからそれぞれ選び、記号で答えなさい。



- ア. 秋田    イ. 宇都宮    ウ. 新青森    エ. 盛岡    オ. 高崎  
カ. 福島    キ. 山形    ク. 仙台    ケ. 水戸    コ. 新潟

問8 下線部⑥について、新幹線の路線整備計画を担当するのはどの省庁ですか。次のア～エから1つ選び、記号で答えなさい。

- ア. 環境省    イ. 経済産業省    ウ. 財務省    エ. 国土交通省

問9 下線部⑦に関連して、全国のローカル線では、利用客を増やすためにさまざまな取り組みをしています。このような取り組みの例として誤っているものを次のア～エから1つ選び、記号で答えなさい。

- ア. 運行本数を減らしたり、駅の無人化などの合理化を進めて赤字を少なくする取り組み。
- イ. 通院する乗客のために、駅に駐車場を整備、アテンダントが乗車して通院客をサポートする取り組み。
- ウ. 地元の食材、旬の食材にこだわった食事を提供する観光列車を走らせる取り組み。
- エ. 多くの人が利用しやすいライトレール（路面電車）に転換し、路面電車の整備とまちづくりをあわせて行う取り組み。

問10 下線部⑧について、次の問いに答えなさい。

(1) この選挙では、1名の欠員補充<sup>ほじゅう</sup>をのぞくと、何名の議員が新たに選ばれたか答えなさい。

(2) この選挙で選ばれた議員にできないことはどれですか。次のア～エから1つ選び、記号で答えなさい。

- ア. 法律案の審議を行うこと。
- イ. 予算案の審議を行うこと。
- ウ. 内閣総理大臣を指名すること。
- エ. 内閣不信任案の審議を行うこと。

**4** 次の文を読んで、あとの問いに答えなさい。

100年前の1923年9月1日、①関東地方を大きな地震がおそいました。大正関東地震、いわゆる関東大震災です。東京では、震度7の揺れで建物が倒壊し、昼食の時間帯だったため、火災が多数発生しました。②首都機能は麻痺し、「関東全域が壊滅・水没」、「津波が赤城山の山麓にまで達した」などの③誤った情報が流れたとされています。

震災をうけて、世界各地から支援が届きました。特にアメリカ合衆国からの支援は大規模なもので、民間での募金運動や海軍による物資の輸送などがおこなわれました。日本政府も復興計画をすすめました。都心部に建てられた鉄筋コンクリート製の小学校は復興小学校と呼ばれ、港区立高輪台小学校など、現在でも一部の学校では、校舎として使用されています。

復興が進んだ東京でしたが、今度は戦火に見舞われました。1941年から始まる太平洋戦争です。開戦当初は優勢でしたが、1942年の（あ）海戦での敗北以降、戦況は悪化しました。サイパン島が占領されると、アメリカ軍の爆撃機による日本本土への空襲が激しくなりました。1945年3月の東京大空襲では、約300機の爆撃機が爆弾を投下し、一晩で約10万人が犠牲になりました。同年8月、（い）宣言を受け入れて、終戦となりました。

戦争によって、国民の生活は破壊されました。空襲で焼け野原になった場所にバラック小屋を建てたりして生活しました。物資不足により米の配給がとどこおり、多くの餓死者が出ました。町中には戦火で家族を失った戦災孤児があふれかえていました。この状況に対して、アメリカ合衆国でアジア救援公認団体（LARA）が設立され、日本に援助物資が送られることになりました。これをララ物資と言います。食糧や医薬品、衣料品などの物資が中心で、乳牛やヤギなども届けられたといます。④大部分は食糧支援でした。この支援活動に携わった人物が、戦前に普連土学園で教師をつとめ戦後に学園長となるエスター＝ビドル＝ローズ氏でした。

問1 空らん（あ）（い）にあてはまる語句をそれぞれカタカナで答えなさい。

問2 次の文は、下線部①の地域の特徴についてまとめたものですが、一部に誤りがあります。波線部 a ～ c を正しい語句に直しなさい。

関東平野は、関東ローム層と呼ばれる火山灰の地層が広がっています。中央部を流れる利根川の河口に位置する銚子は、a 遠洋漁業が盛んな地域で、しょう油の産地としても知られています。茨城県にあるb 本栖湖は、日本第二の広さを持ち、川魚の養殖がおこなわれています。一方、群馬県嬭恋村は浅間山の山ろくに位置し、レタスなどの野菜を夏につくるc 促成栽培をおこなっています。

問3 下線部②について、次の問いに答えなさい。

(1) 関東大震災後、首都機能に移転させるという案が出されたことがあります。首都機能移転の利点にあてはまらないものを次のア～エから1つ選び、記号で答えなさい。

ア. 首都圏の過密化を避けることができます。

イ. 移転した地域の経済活性化につなげることができます。

ウ. 大規模災害時の政府へのダメージを減らすことができます。

エ. 地方への国庫支出金の配分を減らすことができます。

(2) 近年、京都に機能を一部移転した省庁を次のア～エから1つ選び、記号で答えなさい。なお、この省庁は、文部科学省が管轄かんかつしています。

ア. 気象庁    イ. 文化庁    ウ. 国税庁    エ. 警察庁

問4 下線部③に関連して、現在も誤った情報が信じられてしまうことがあります。そのため、情報をあつかう上でメディアリテラシーが重要になります。これはどのような力ですか。説明しなさい。

問5 下線部④について、この支援をもとに都市部の学校で始まったことは何ですか。