

2024 年度 普連土学園中学校

入学試験問題

2024 年 2 月 1 日実施

社 会

1 日午前 4 科

1. 問題に答える時間は 30 分です。
2. 問題は、～ まであります。
3. 答はすべて、「解答用紙」に記入しなさい。
4. 「解答用紙」は中に 1 枚はさんであります。

1 次の文を読んで、あとの問いに答えなさい。

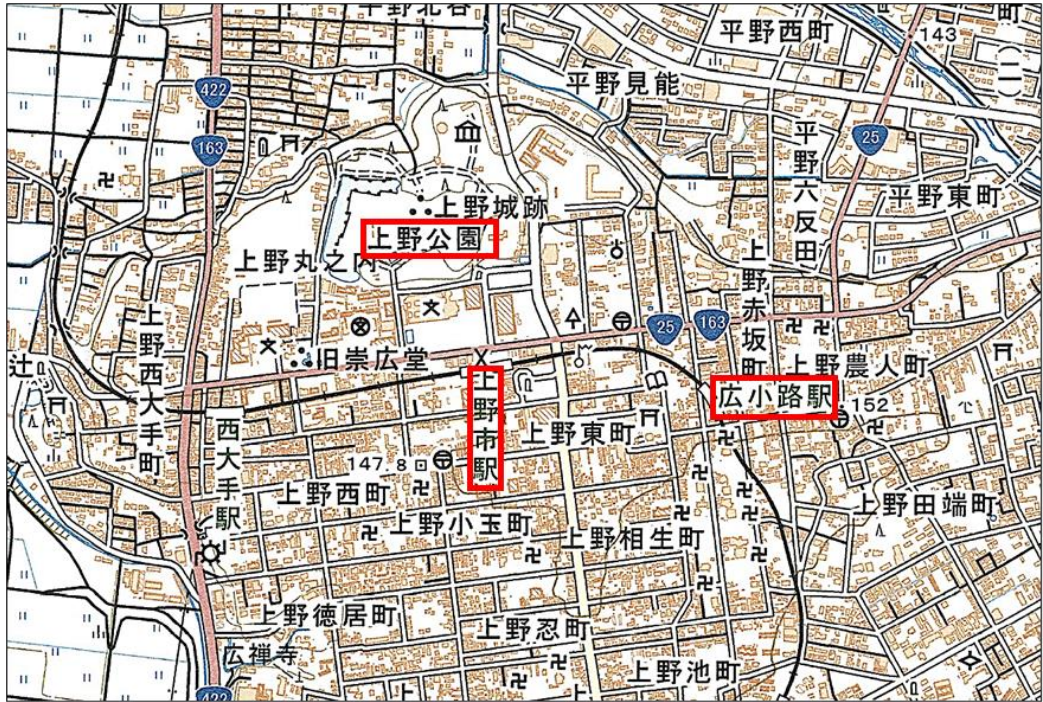
普通土学園の近くにある芝公園は、2023年で開園150年を迎えました。①1873年に日本で都市公園制度がはじまり、東京では芝公園など5つの公園が開園しました。この頃の公園は、主に寺院や神社の敷地に作られました。その後、東京を近代都市につくりかえていくために、日本で初めての西洋式庭園である日比谷公園などが整備されました。②1923年に関東大震災が発生すると、震災からの復興計画の中で公園の整備が重視され、隅田公園などの3か所の大きな公園と52か所の小学校に隣接した小さな公園が整備されました。

関東大震災後も東京の人口は増え続け、都市が拡大していきました。そこで、1939年に東京の外側に緑地帯を整備する計画がつけられました。大規模な緑地は、都市の住民にとって必要なものだと考えられていたのです。さらに、戦争が激しくなると、空襲の際の避難場所などとしての役割も持たせられるようになりました。これらの緑地帯の一部は、現在きぬた砧公園や水元公園などの都立公園になっています。

戦後、まずは焼け野原からの復興が優先され、③高度経済成長期には東京の人口が急激に増えたため、住宅を作ることが優先されました。その結果、公園の整備はなかなか進まず、空き地や緑地は減っていきました。この時期、1956年に定められた都市公園法という④法律に基づいて、住宅地には小さいながらもブランコ、すべり台、砂場がある子どもの遊び場である児童公園が作られました。⑤1993年に、住宅地の中にある公園は、児童公園から街区公園という名前に変わりました。最近では⑥公園のあり方も大きく変化しています。公園の中には、小学生のアイデアを取り入れてリニューアルを進めたものもあります。⑦子どもにも社会に参加する権利があることは条約や法律にも書いてあります。

このように⑧議会や行政がすべてを決めるのではなく、当事者の意見を直接聞いて政策に反映させていくことは、民主主義の社会では大切です。近年、公園のあり方を巡って⑨さまざまなトラブルが発生していますが、日頃から利用者や住民が意見を出し合える環境を整えることが重要と言えるでしょう。

問1 下線部①に関連して、次の地形図は芝公園と同じく1873年に都市公園となった三重県の上野公園周辺の地形図です。この地形図から読み取れることとして誤っているものを以下のア～エから1つ選び、記号で答えなさい。



(国土地理院 1:25000 「上野」 2022年発行を作問の都合上縮小、一部加工。)

- ア. 上野公園の北には博物館がある。
- イ. 広小路駅の南には神社が多く集まっている地域がある。
- ウ. 上野公園の南東には裁判所がある。
- エ. 上野市駅の北側には交番がある。

問2 下線部②に関連する次の各問いに答えなさい。

(1) かつて東京市長をつとめ、復興計画を担った人物を次のア～エから1つ選び、記号で答えなさい。

- ア. 田中正造 イ. 江藤新平 ウ. 田中角栄 エ. 後藤新平

(2) この復興計画では、公園を整備することの他に、道路の幅を広げて町並みを整理する区画整理が大規模に行われました。これらの事業を行った理由を、関東大震災で多くの人が犠牲となった原因をふまえて答えなさい。

問3 下線部③に関連する次の各問いに答えなさい。

(1) 人口が急増した東京で起こったできごととして誤っているものを次のア～エから1つ選び、記号で答えなさい。

ア. 子どもが急激に増えた結果、学校では教室が足りなくなり、校庭に作られたプレハブ教室で授業が行われた。

イ. 急激に増える通勤通学客に比べて、鉄道の整備が追いつかず、通勤通学時間帯には激しい混雑が発生した。

ウ. 人口と共に自動車も急激に増えた結果、交通事故も増加し、交通戦争と呼ばれた。

エ. 大量に発生したゴミは山間部に埋め立てられており、悪臭や害虫などが発生しゴミ戦争と呼ばれた。

(2) 環境問題が深刻になる中で、良好な環境の中で生活を営む「環境権」が新しい権利として主張されるようになりました。環境権と同じように、新しい権利とされるものを次のア～エから1つ選び、記号で答えなさい。

ア. 教育を受ける権利 イ. 団体交渉権

ウ. プライバシーの権利 エ. 裁判を受ける権利

問4 下線部④について、法律ができるまでの過程についての説明として誤っているものを次のア～エから1つ選び、記号で答えなさい。

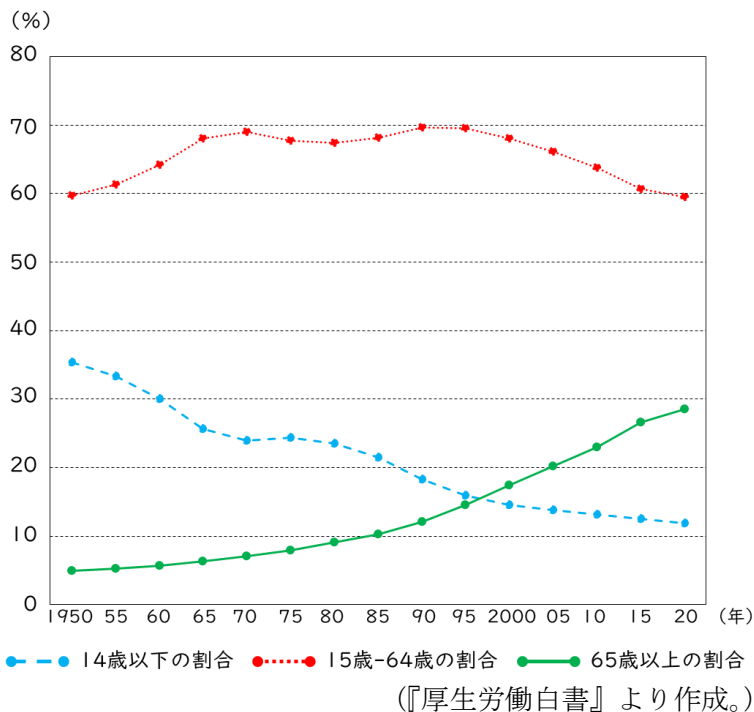
ア. 法律の案は、先に衆議院で話し合わなければならない。

イ. 法律の案は、内閣だけでなく国会議員も出すことができる。

ウ. 法律の案は、出席議員の過半数が賛成すると可決される。

エ. 成立した法律は、天皇によって公布される。

問5 下線部⑤について、「児童公園」が「街区公園」という名前に変わったのはなぜですか。次のグラフから読み取れることをふまえて説明しなさい。



問6 下線部⑥に関連して、近年はインクルーシブ公園と呼ばれている公園が増えていきます。インクルーシブ公園では遊具にも工夫がされています。次の写真は、従来の公園とインクルーシブ公園のすべり台です。インクルーシブ公園とはどのような公園か、写真を参考に説明しなさい。



↑インクルーシブ公園のすべり台



↑従来の公園のすべり台

問7 下線部⑦について、次の各問いに答えなさい。

(1) このような内容を定めた条約に子どもの権利条約があります。子どもの権利条約の説明として、誤っているものを次のア～エから1つ選び、記号で答えなさい。

ア. この条約は、先進国、途上国を問わず、子どもたちを守るための条約で、現在、世界で最も広く受け入れられている人権条約である。

イ. この条約は、第二次世界大戦で多くの子どもが犠牲になったことへの反省から、戦後間もない1950年代前半に採択された。

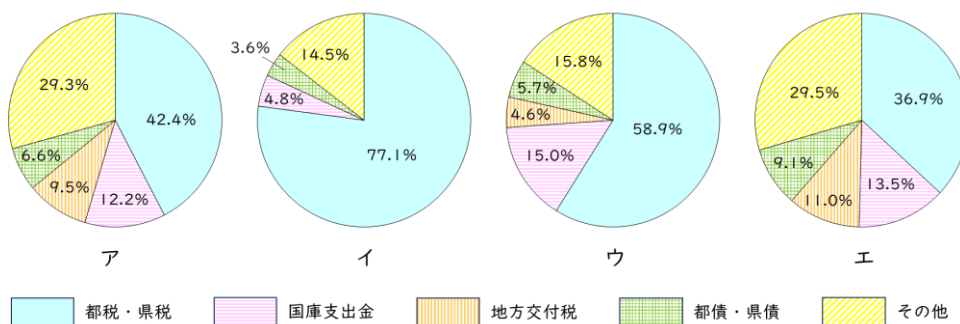
ウ. この条約では、子どもに関することを決めたり、行ったりするとき、その子どもにとって何が最もよいことかを考えなければならないとされている。

エ. この条約では、子どもには自分に関係のあることについて自由に意見を表す権利があり、大人はそれを発達に応じて十分に考慮しなければならないとされている。

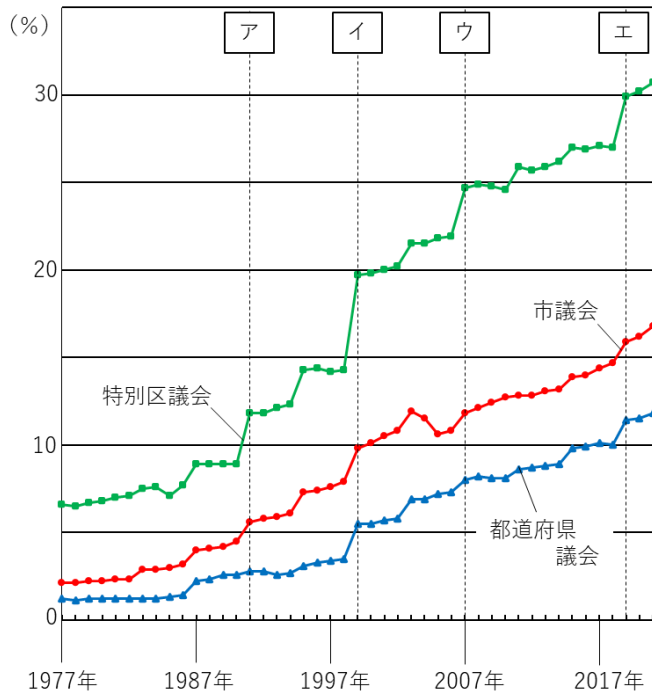
(2) このような内容を定めた、2022年に制定され2023年4月に施行された法律は何か答えなさい。

問8 下線部⑧に関連する次の各問いに答えなさい。

(1) 次のア～エは東京都、神奈川県、埼玉県、千葉県の2023年度の歳入(収入)の割合を表したグラフです。このうち東京都にあてはまるものを1つ選び、記号で答えなさい。



(2) 2023年4月、全国で統一地方選挙が実施されました。次の表はそれぞれの地方議会における女性議員の割合をあらわしたものです。



(『男女共同参画白書』2022年版より作成。)

表中ア～エは、それぞれ統一地方選挙が行われた年の中で女性議員が大きく増えた年です。このうち次の説明文にあてはまるものを1つ選び、記号で答えなさい。

この年、男女平等への意識が高まる中で、職場に限らず、社会のさまざまな場面において男女が平等に暮らせる社会を実現するために、男女共同参画社会基本法が制定、施行された。

問9 下線部⑨に関連して、トラブルを解決する手段の1つに裁判があります。裁判についての説明として正しいものを次のア～エから1つ選び、記号で答えなさい。

- ア. 個人と個人のトラブルを解決するための裁判を民事裁判という。
- イ. 裁判は個人情報を守るために、原則として非公開で行われる。
- ウ. 簡易裁判所は家庭に関するトラブルや少年事件を扱う裁判所である。
- エ. 裁判員裁判は刑事裁判と民事裁判の両方で行われる。

2 次の文を読んで、あとの問いに答えなさい。

九州地方は①8つの県で構成されていますが、古代は9つの国（州）があり九州と名づけられました。この地方は②火山が多く平野が少ないものの、暖流が流れ温暖な気候のため農林水産業が盛んです。また、2023年に【 X 】が日本の島の数を発表しました。九州には全国で最も多くの島があり、③特色ある島が多いのも特徴です。古代から朝鮮半島や大陸の影響を受け、④弥生時代以降稲作の伝来のほか、渡来人が文化や知識をもたらしました。日本からも⑤使者を派遣し、文化を吸収したことで日本の変化にもつながりました。外国と⑥交戦することもしばしばあり、古墳時代の戦争の記録も残っています。

明治時代に入り、重工業の発展の必要性から国によって工場が建設されると、北九州工業地帯を中心に鉄鋼業が発展しましたが、高度経済成長期には⑦公害問題に悩まされました。近年は機械工業や自動車工業の割合が高く、電子産業も盛んになっています。

問1 文中【 X 】にあてはまる機関のなまえを漢字で正しく答えなさい。

問2 下線部①について、九州には政令指定都市がいくつありますか。算用数字で答えなさい。

問3 下線部②について、次の各問いに答えなさい。

(1) 下線部を説明したものとして誤っているものを次のア～エから1つ選び、記号で答えなさい。

ア. 九州の北部には低くなだらかな九州山地が、中央部には高く険しい筑紫山地がある。また、カルデラで有名な阿蘇山は活火山である。

イ. あたたかい気候を利用した促成栽培が宮崎平野で行われており、ビニールハウスを用いてピーマンやきゅうりが栽培されている。

ウ. 有明海では古くから干拓が行われ、のりの養殖で知られている。また鹿児島県はうなぎの養殖で全国有数の都道府県である。

エ. 全国有数の畜産生産額をほこり、宮崎県の地鶏や鹿児島県の黒豚などブランド化したものもある。

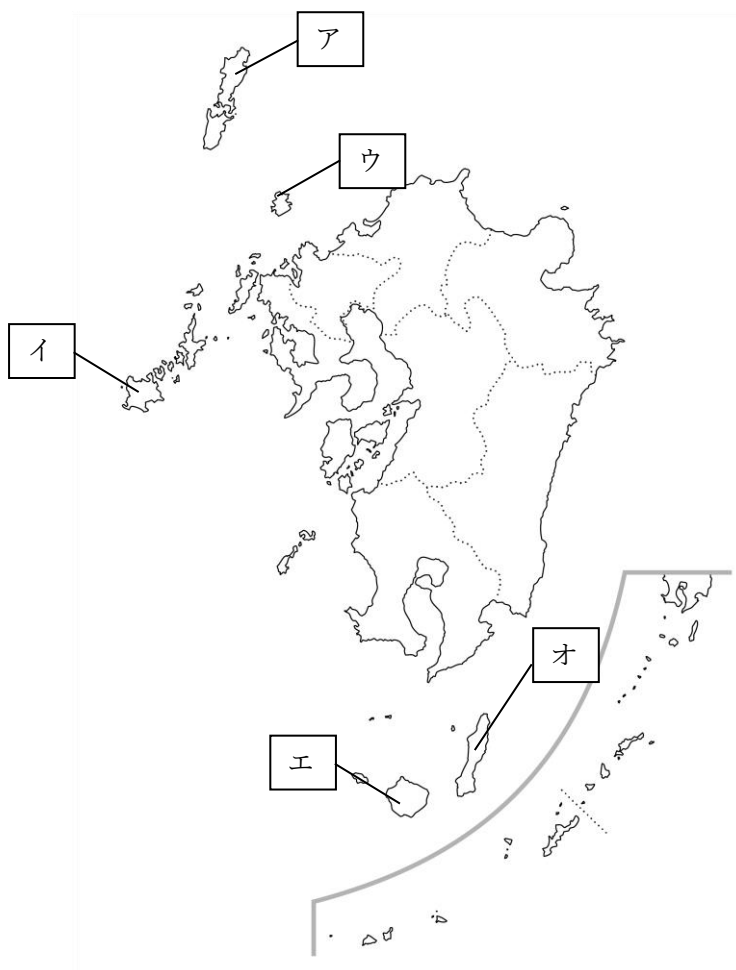
(2) 九州南部の火山灰などが堆積した地域では、水もちが悪い^{たいせき}ため畑作や畜産業が盛んです。この地形を何といいますか。

問4 下線部③について、次のA～Cは以下の地図中の島の説明です。それぞれの島のなまえを答え、その場所を地図中ア～オから1つ選び、記号で答えなさい。

A. 日本で初めて鉄砲が伝わり、現在は宇宙ロケットの発射基地がある。

B. 世界自然遺産に登録され、樹齢2000年を超える杉や数千種の植物がみられる。

C. 古代から朝鮮半島との橋渡しをつとめ、江戸時代には藩として窓口の役割を担った。



問5 下線部④について、次の各問いに答えなさい。


- (1) 57年に奴国王が中国の王に授けられた金印は福岡県のどこで発見されましたか。地名を答えなさい。
- (2) 製陶^{せいとう}の技術では、これまで以上に高温で焼くことができる設備が伝わり、薄く丈夫な土器が作られるようになりました。この施設を何といいますか。

問6 下線部⑤について、次の図版は日本の文化に関係のあるものの写真です。年代が古い順番に並びかえて記号で答えなさい。

ア.



イ.



ウ.



エ.



問7 下線部⑥について、次の戦いを年代が古い順番に並びかえて記号で答えなさい。

- ア. 文永の役 イ. 慶長の役 ウ. 白村江の戦い エ. 日露戦争

問8 下線部⑦について、次の各問いに答えなさい。

(1) 熊本県で発生した水銀による水質汚染が原因となった公害は何ですか。

(2) 熊本県にはSDG s 未来都市に指定された都市が4つあります。SDG s 未来都市とは、国が選定した地方自治体でSDG s の目標と地方創生の取り組みが結びついている地方行政が選ばれます。SDG s の目標のうち、次のA～Cの文にあてはまるロゴをそれぞれ選び、記号で答えなさい。

A. 「すべての人に健康と福祉を」

B. 「つくる責任つかう責任」

C. 「住み続けられるまちづくりを」

ア.



イ.



ウ.



エ.



問題は次のページに続きます。

③ 次のA～Hは、日本の相手国別貿易額の上位に占めるいずれかの国を表しています。これについてあとの問いに答えなさい。

【日本のおもな相手国別貿易額・主要輸出入品】

A.

輸出額(億円)	179844	輸入額(億円)	203775
主要輸出品の輸出・輸入に占める割合(%)			
一般機械	23.0	電気機器	30.5
電気機器	21.6	一般機械	18.4
プラスチック	6.1	衣類	7.8
乗用車	5.2	金属製品	3.6
科学光学機器	3.9	繊維製品等	2.9

B.

輸出額(億円)	148314	輸入額(億円)	89031
主要輸出品の輸出・輸入に占める割合(%)			
一般機械	24.6	一般機械	12.1
乗用車	23.6	電気機器	10.6
電気機器	15.1	医薬品	9.6
自動車部品	6.1	液化石油ガス	5.6
科学光学機器	2.6	液化天然ガス	5.3

C.

輸出額	57696	輸入額	35212
主要輸出品の輸出・輸入に占める割合(%)			
一般機械	20.2	石油製品	14.9
電気機器	16.8	電気機器	14.8
鉄鋼	8.7	一般機械	10.6
プラスチック	5.9	鉄鋼	10.0
有機化合物	5.4	銀と白金族	5.2

D.

輸出額	16745	輸入額	57337
主要輸出品の輸出・輸入に占める割合(%)			
乗用車	46.5	石炭	32.3
バスとトラック	12.3	液化天然ガス	26.9
一般機械	12.2	鉄鉱石	19.1
軽油	5.7	銅鉱	4.5
タイヤ類	3.6	牛肉	2.9

E.

輸出額	36246	輸入額	28922
主要輸出品の輸出・輸入に占める割合(%)			
電気機器	19.2	電気機器	23.7
一般機械	19.1	一般機械	12.4
鉄鋼	15.7	肉類	7.2
自動車部品	7.4	プラスチック	3.6
銅と合金	4.1	科学光学機器	3.6

F.

輸出額	22790	輸入額	25955
主要輸出品の輸出・輸入に占める割合(%)			
電気機器	27.4	医薬品	20.5
一般機械	19.3	乗用車	17.1
乗用車	6.9	電気機器	13.2
有機化合物	5.4	一般機械	12.7
科学光学機器	5.2	有機化合物	5.3

G.

輸出額	20968	輸入額	25245
主要輸出品の輸出・輸入に占める割合(%)			
電気機器	26.1	電気機器	27.9
一般機械	13.5	衣類	15.8
鉄鋼	9.2	一般機械	6.6
プラスチック	5.4	履物	4.5
鉄鋼くず	5.1	魚介類	4.2

H.

輸出額	4889	輸入額	30193
主要輸出品の輸出・輸入に占める割合(%)			
乗用車	50.6	原油	91.7
バス・トラック	11.2	揮発油	3.7
一般機械	9.9	有機化合物	1.5
鉄鋼	4.9	アルミニウム等	1.2
自動車部品	4.1	銅くず	0.5

(『データブックオブ・ザ・ワールド 2023』をもとに作成。2021年の統計。)

【A～Hの各国と日本の結びつき】 A～Hは、アメリカ合衆国・オーストラリア・韓国・サウジアラビア・タイ・中国・ドイツ・ベトナムのうちのいずれかである。

- ① この国は国土面積が日本の20倍あり、鉱産資源に恵まれています。高度経済成長期には日本はこの国から原料を輸入し、鉄鋼業が飛躍的に発展しました。原料・燃料の輸入先として重要であり、輸入額が輸出額を上回っています。
- ② 東南アジアに位置するこの国とは、17世紀初頭には交易が行われていました。1973年に外交関係が樹立して以来、日本はa 建設・人材開発、電力・交通施設や医療、教育などの分野で政府開発援助を通じて支援しています。
- ③ 明治時代から第一次世界大戦までは、政治や法律、工業や医学などの分野で日本はこの国を手本としました。現在この国と日本はG7のメンバー国同士であり、日本にとってEU内最大の貿易相手国となっています。
- ④ 砂漠に覆われるこの国と日本は、1955年から国交を結んでいます。日本はこの国のペルシア湾付近で採掘される原料を大量に輸入しており、輸入額が輸出額を大幅に上回っています。
- ⑤ この国とはかつて朱印船によって交易があり、当時の都アユタヤには日本町が形成されました。1980年代以降、この国に日系企業が製造工場を設置するようになり、現在東南アジアでは最大の貿易相手国となっています。
- ⑥ この国と日本は古代から結びつきをもっていました。4～7世紀には大和政権が朝鮮半島に進出し、b 16世紀末には豊臣秀吉が朝鮮半島に出兵し、江戸時代には【 X 】という使節が来日しました。1965年には正式な国交が結ばれ、現在の貿易は輸出入品目に共通するものが多く産業構造が似ています。
- ⑦ この国は紀元前から文化が栄えており、漢字や仏教、儒学、貨幣などが伝わりました。一方、c 日清戦争や日中戦争などで両国が戦ったこともあります。1972年に国交を回復し、その後この国は「世界の工場」としてめざましい発展を遂げました。現在は、日本の最大の貿易相手国です。
- ⑧ 日本とこの国の正式な国交は、d 1854年に【 Y 】が結ばれ1858年には日米修好通商条約が結ばれて始まりました。第二次世界大戦後は活発に貿易が行われましたが、1980年代～1990年代には貿易摩擦が問題となりました。

問1 A～Hの各国にあてはまる説明を①～⑧からそれぞれ選び、記号で答えなさい。

問2 下線部 a について、次の各問いに答えなさい。

- (1) 政府開発援助のことをアルファベットで何というか答えなさい。
- (2) 日本の政府開発援助の特徴について述べた文として誤っているものを次のア～エから1つ選び、記号で答えなさい。
 - ア. 二国間援助のうち、国に対しての額はバングラデシュが最も多い。
 - イ. 地域に対してはアジアの国々への支援がもっとも多い。
 - ウ. 国民一人当たりの負担額でみると先進國中1位である。
 - エ. 政府開発援助の総額は世界の中で5位である。

問3 下線部 b について、次の各問いに答えなさい。

- (1) 文中【 X 】にあてはまる語句を答えなさい。
- (2) 朝鮮出兵の際に、多くの陶工が日本に連れてこられました。李参平によって始められた焼き物を次のア～エから1つ選び、記号で答えなさい。
 - ア. 備前焼
 - イ. 有田焼
 - ウ. 信楽焼
 - エ. 清水焼

問4 下線部 c について、この戦争の講和条約をア～エから1つ選び、記号で答えなさい。

- ア. 下関条約
- イ. ワシントン条約
- ウ. 北京条約
- エ. ポーツマス条約

問5 下線部 d について、次の各問いに答えなさい。

- (1) 文中【 Y 】にあてはまる条約名を答えなさい。
- (2) 日米修好通商条約を結んだ際の①アメリカ合衆国側の代表と、②日本側の代表のなまえをそれぞれ答えなさい。
- (3) 開国後、1860年代の日本の最大の貿易相手国はどこですか。次のア～エから1つ選び、記号で答えなさい。
 - ア. ドイツ
 - イ. イギリス
 - ウ. アメリカ合衆国
 - エ. オランダ

4 次の会話文を読んで、あとの問いに答えなさい。

友子： 最近、外国人観光客の姿を、駅や町中で見る機会が増えました。新型コロナウイルスの流行前に戻ってきたように感じます。

先生： そうですね。訪日観光客による需要、いわゆる【 あ 】需要が増えるきざしが見え始めましたね。

友子： ところで、外国人の方はどのような観光地を訪れているのでしょうか。

先生： 東京や大阪のような①都市圏、日本らしさを感じることができる京都や奈良などが多いようですね。また、沖縄や②北海道のような、自然豊かな地域も好まれているようです。

友子： 具体的な場所だと、どこでしょうか。

先生： やはり国連機関のユネスコが世界遺産に登録した場所が多いのではないのでしょうか。寺院や神社であれば、奈良の大仏で有名な【 い 】寺や、海に浮かぶ朱塗りの大鳥居が美しい【 う 】県の厳島神社などですね。

友子： 「富士山－信仰の対象と芸術の源泉」という名称で世界【 え 】遺産に登録された富士山にも、日本人外国人問わず、大勢の観光客が押しよせていると聞きました。

先生： その結果、富士山では③オーバーツーリズムも起きていますね。他の観光地にも言えますが、観光客を誘致することも大切ですが、地域社会との共存も忘れてはなりませんね。

友子： 最近ではインターネット上の個人のSNSからの発信で、人気に火が付くことも多くなりました。いわゆる「映えスポット」というものです。

先生： 私もよく聞くようになりました。そのような事例として、【 お 】県犬山市があげられます。国宝の④天守閣をもつ犬山城があり、戦国時代には、尾張国と呼ばれたこの地域を治めた⑤織田氏の支配下に置かれました。近年、城下町が整備され、古い街並みを生かした観光地として人気が高まっています。犬山城の麓ふもとにある神社のハート型絵馬が女性に大人気となり、着物を着て城下町を散策するという若者が増えているそうですよ。

友子： そうなのですね。行ってみたいくなりました。

先生： 私も数回訪れたことがあります。散策だけでなく、犬山城も是非行ってみてくださいね。

問1 文中【 あ 】にあてはまる語句をカタカナで答えなさい。

問2 文中【 い 】【 う 】【 え 】【 お 】にあてはまる語句をそれぞれ漢字2字で答えなさい。

問3 下線部①について、都心の居住人口が減少して郊外の居住人口が増加する現象を何といいますか。

問4 下線部②に関連して、北海道の東部に位置する北方領土のうち、面積が最も広い島はどこですか。

問5 下線部③はどのようなことを意味するか。35字以内で説明しなさい。

問6 下線部④について、東日本に所在する現存天守を持つ城として正しいものを次のア～エから1つ選び、記号で答えなさい。

ア. 彦根城 イ. 松江城 ウ. 弘前城 エ. 姫路城

問7 下線部⑤に関連して、織田信長について述べた文として正しいものを次のア～エから1つ選び、記号で答えなさい。

ア. 征夷大將軍に任命され、京都の室町に幕府を開いた。

イ. 京都で明智光秀に襲われ亡くなった。

ウ. 京都の北山に金閣を建てた。

エ. 京都に六波羅探題を設置して、朝廷を監視した。