

2024 年度 普連土学園中学校

入学試験問題

2024 年 2 月 4 日実施

社 会

4 日午前 4 科

1. 問題に答える時間は 30 分です。
2. 問題は、**1**～**3** まであります。
3. 答はすべて、「解答用紙」に記入しなさい。
4. 「解答用紙」は中に 1 枚はさんであります。

1 友子さんは、夏休みに訪れた沖縄県についてまとめました。これについて、あとの問いに答えなさい。

【地形と気候】： 沖縄県には①大小 160 ほどの島があり、沖縄本島、宮古島、石垣島、西表島など 49 の島々に 139 万人余りの人々が暮らしています。沖縄県の降水量は年間を通じて多いのですが、②慢性的な水不足を解消するため沖縄本島の北部には 6 つのダムが築かれています。

【サンゴ礁】： 琉球諸島には、日本の約 80% 以上のサンゴ礁が存在しています。サンゴ礁の周りには多くの海洋生物が集まるため、③漁業や観光業などの産業にとって重要です。ダイビングを体験してサンゴ礁を見ることができ、大自然を感じられましたが、④近年沖縄県のサンゴ礁の破壊が進んでいるそうです。

【パイナップル畑】： 東村に行くとパイナップルの畑を見ることができました。この地は酸性のどじょう土壌、水はけの良い土地、高い気温がパイナップルの栽培に適していますが、沖縄ではこのような⑤暖かい気候を生かした作物が作られています。またゴーヤーチャンプルー、ミミガーなど独自の食文化があります。

【首里城】： 1429 年から 1879 年までの約 450 年間にわたり⑥琉球王国があり、その王国の政治・外交・文化の中心地として栄えたのが、首里城です。九州・沖縄サミット開催を記念して、2000 年 7 月 19 日に発行された⑦二千年紙幣の表面にも首里城の守礼門が描かれています。

【 X 】の塔： 沖縄戦に動員されて亡くなった女学生たちの慰霊のために建てられました。⑧太平洋戦争の際に唯一国内で地上戦が繰り広げられた沖縄では、迫りくる米軍の攻撃によって多くの人が命を落としたそうです。「【 X 】学徒隊」は看護・水くみ・食料の受け取り、汚物処理などの活動にあたったそうです。

【嘉数高台公園】： この公園の展望台からは⑨米軍の普天間飛行場がよく見えます。飛行機やヘリコプターが飛び立つ様子を間近に見ることが出来ます。普天間飛行場は沖縄戦が行われた 1945 年 6 月に、米軍の手によって建設が始まりました。嘉数一帯は沖縄戦の激戦地だったそうで、多くの住民の方がここで犠牲になっており、公園にも慰霊碑が建てられています。

問1 下線部①について、次の各問いに答えなさい。

- (1) 沖縄県に属する日本最西端の島のなまえを答えなさい。
- (2) (1)のおよその緯度・経度を次のア～エから1つ選び、記号で答えなさい。
- ア. 東経 122 度 北緯 24 度 イ. 東経 142 度 南緯 24 度
ウ. 東経 122 度 北緯 34 度 エ. 東経 142 度 南緯 34 度
- (3) (1)の島から南鳥島までのおよその距離として正しいものを次のア～エから1つ選び、記号で答えなさい。
- ア. 1500 km イ. 3000 km ウ. 4500 km エ. 6000 km

問2 下線部②について、沖縄で水不足になりやすい理由として正しいものを次のア～エから1つ選び、記号で答えなさい。

- ア. 沖縄には標高の高い山地が多く、湿った空気が届かないから。
イ. 山地が少なく河川も小さく短いため、降水がすぐに海に流れ出るから。
ウ. 夏季の南東季節風が山地によって遮^{さかざ}られるから。
エ. 台風や梅雨前線の影響を受けにくく、冬季には大陸から吹く乾いた南西季節風の影響を受けるから。

問3 下線部③について、次の各問いに答えなさい。

- (1) 次の表は沖縄県・愛知県・東京都・青森県の産業別の人口の割合を表しています。沖縄県にあてはまるものをア～エから1つ選び、記号で答えなさい。

<各都道府県の産業別人口の割合>

	第一次産業 (%)	第二次産業 (%)	第三次産業 (%)
ア	12.0%	20.8%	67.2%
イ	4.0%	15.4%	80.7%
ウ	2.1%	32.7%	65.3%
エ	0.5%	15.8%	83.7%

(『データブックオブ・ザ・ワールド 2023』により作成。)

- (2) 沖縄県の漁業について、漁獲量の割合が多いものを次のア～オから2つ選び、記号で答えなさい。

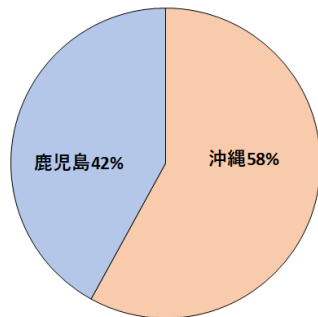
ア. さけ イ. かつお ウ. にしん エ. さんま オ. まぐろ

問4 下線部④について、この原因として正しいものを次のア～エから1つ選び、記号で答えなさい。

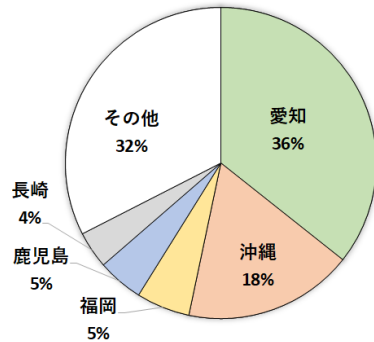
- ア. 海水面が低下していること。
- イ. 開発によって土砂が流出していること。
- ウ. サンゴの移植作業がすすんでいること。
- エ. 異常気象によって台風の上陸が減っていること。

問5 下線部⑤について、次のⅠ・Ⅱのグラフは温暖な気候を利用して栽培される作物の都道府県別の収穫量の割合を示しています。それぞれの作物にあてはまるものを下のア～カから1つずつ選び、記号で答えなさい。

Ⅰ.



Ⅱ.



(農林水産省『作物統計調査』をもとに作成。)

- ア. ピーマン イ. 菊 ウ. さとうきび エ. なす オ. びわ カ. い草

問6 下線部⑥について述べた次の文について、あとの各問いに答えなさい。

15世紀初めに中山の王になった(ア)氏は、北山・南山の勢力を滅ぼして琉球王国をたて首里城を築きました。琉球王国は他国からの輸入品を別の国に輸出する(イ)貿易を行いました。琉球が中国と東南アジア諸国との間を(イ)してつないだ貿易ルートは、江戸時代初期までつづく(ウ)船貿易につながっていきます。

- (1) 文中(ア)～(ウ)にあてはまる語句をそれぞれ答えなさい。
- (2) (ウ)船貿易で日本が輸入した中国産の品物を次のア～カから2つ選び、記号で答えなさい。

- ア. 銀 イ. 硫黄 ウ. 刀 エ. 生糸 オ. 銅 カ. 絹織物

問7 下線部⑦について、二千円紙幣の裏面には平安時代の絵巻物が描かれています。国風文化の時期に書かれた文芸作品として誤っているものを次のア～エから1つ選び、記号で答えなさい。

ア.『平家物語』 イ.『竹取物語』 ウ.『源氏物語』 エ.『土佐日記』

問8 下線部⑧について、次の各問いに答えなさい。

(1) 文中の【 X 】にあてはまる語句を答えなさい。

(2) 第二次世界大戦の終戦に関する次のア～オの出来事を古い順に並べかえなさい。

ア. アメリカ軍が広島に原爆を投下した。

イ. アメリカ軍が長崎に原爆を投下した。

ウ. ミッドウェー海戦で日本軍が大敗した。

エ. 天皇がポツダム宣言の受け入れをラジオで国民に伝えた。

オ. 東京大空襲によって約10万人の死者が出た。

(3) 1972年に「この島の問題が解決されないかぎり日本の戦後は終わらない。」とあって沖縄返還を成し遂げた際の首相のなまえを漢字で答えなさい。

問9 下線部⑨について、次の各問いに答えなさい。

(1) 日本ではアメリカ軍の駐留を認めています。このことを規定しているサンフランシスコ講和条約と同時に結ばれた条約をなんといいですか。

(2) 沖縄には日本にある米軍基地の面積の約何%がありますか。次のア～エから1つ選び、記号で答えなさい。

ア. 10% イ. 30% ウ. 50% エ. 70%

(3) 沖縄県では、県知事の選挙でも基地建設問題が争点の一つになりました。知事の選挙について述べた文として正しいものを次のア～エから1つ選び、記号で答えなさい。

ア. 選挙権をもつのは、18歳以上の外国人を含むすべての住民である。

イ. 被選挙権を得る年齢は、衆議院議員と同じである。

ウ. 知事の選挙については、公職選挙法に基づいて実施される。

エ. 知事の選挙が行われるのは、知事がリコールされたときだけである。

2 次の文を読んで、あとの問いに答えなさい。

渋沢栄一は近代産業の父と呼ばれ、日本の近代化に多大な功績を残した人物です。幕末の動乱期 i 天保 11 年 (1840 年)、農民の子として養蚕や染め物が盛んであった現在の①埼玉県に生まれました。商業の才能や巧みな話術を認められ、幕府に仕えています。主君は 15 代将軍となった【 あ 】で、栄一への信頼があつく、欧州に渡る機会も得ました。栄一は、フランスで徳川^{あきたけ}昭武を補佐しつつ②海外の事情を学びますが、途中幕府が倒れたとの知らせを受け、帰国しました。帰国後、^{いんきょ}隠居した【 あ 】のため静岡で旧幕府の人々の生活を支えますが、その才能を明治政府にも求められ、日本全体のためにと政府の役人となりました。政府の役人として民^{みんぶ}部省で新しい日本の制度を考案し、大蔵省に務めると、養蚕業の経験を活かして官営模範工場の【 い 】が動くまでの道筋をつくりました。政府で成果を出しましたが、それに満足せず、近代化は民間からも底上げが必要と、その後最初の銀行となる【 う 】を設立し、③民間の企業に次々と携^{たずさ}わって近代産業の土台をつくりました。栄一は生涯で 500 以上の企業や団体に関わりましたが、150 年近く経過してなお、日本の産業では栄一が関わった多くの仕組みや企業が役割を果たしています。

栄一は④社会福祉事業や教育にも熱心に取り組みました。栄一の信念として「商業の発展は利益追求だけに終わらず、⑤根底に道徳があり国や人類の全体の繁栄に責任を持つことを忘れてはならない」というものがあります。8 代将軍の孫で⑥白河藩主から老中を務めた【 え 】は、栄一が自身の考えに近いものを感じたのか、『^{らくおうこうでん}楽翁公伝』という歴史書をまとめる程、尊敬した人物の一人です。今からおよそ 100 年前に関東で大きな震災が発生した時も、80 代の栄一は復興に向けて国内では民間や政府に協力し、海外には資金援助を求めました。特にアメリカ合衆国では栄一の功績や考えを尊敬する資本家や政治家も多かったため、多額の援助金が集まりました。ii 1931 年に惜しまれつつ亡くなった栄一は、その思想が現代でも人々に影響を与え、注目を集め続けています。

問 1 波線部 i・ii について、同じ年の出来事を次のア～オからそれぞれ選び、記号で答えなさい。

- | | | |
|----------|---------|----------|
| ア. ペリー来航 | イ. 米騒動 | ウ. アヘン戦争 |
| エ. 満州事変 | オ. 日中戦争 | |

問2 下線部①について、次の各問いに答えなさい。

- (1) この県にある、大和政権の大王の名が刻まれた鉄剣が出土した古墳を答えなさい。
- (2) 古墳時代について説明した次の文として正しいものを次のア～エから1つ選び、記号で答えなさい。
- ア. 大仙古墳は国内最大の前方後円墳で、奈良県にある。
- イ. 大和政権は豪族支配のため氏姓制度という仕組みを作った。
- ウ. 中国の歴史書によると日本の王が中国の皇帝にたびたび使いを送り、国内や朝鮮の支配者として認められると金印を授かった。
- エ. 仏教が中国から伝えられ、朝廷内では蘇我氏と物部氏が争った。

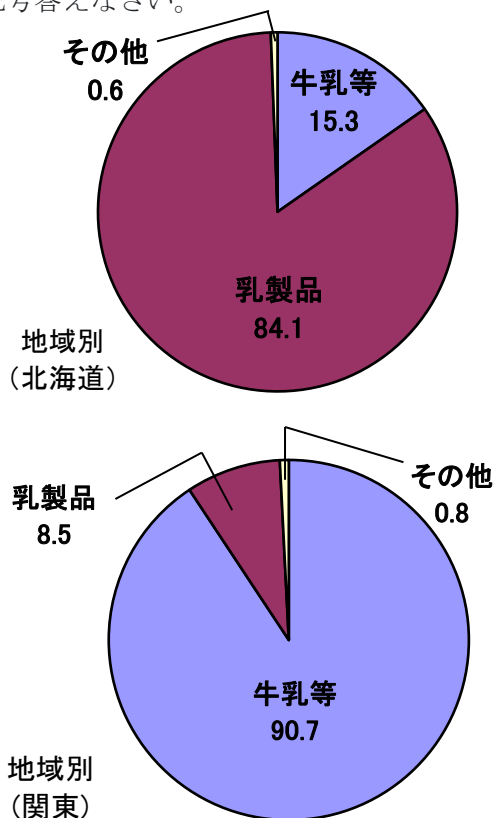
問3 文中【 あ 】～【 え 】にあてはまる語句を答えなさい。

問4 下線部②について、西洋の食事に触れた栄一はオートミールに牛乳をかけて食べていました。現代の日本の酪農について、表とグラフから読み取れるものを次のア～エから1つ選び、記号答えなさい。

生乳生産量(都道府県別)

都道府県	t(トン)	%
北海道	4,309,275	56.6
岩手	207,362	2.7
茨城	182,969	2.4
栃木	359,211	4.7
群馬	207,903	2.7
千葉	192,368	2.5
熊本	266,013	3.5

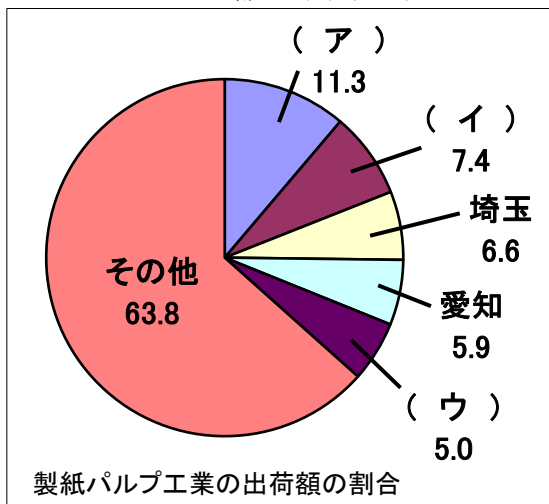
(令和4年 農林水産省
『牛乳乳製品統計調査』より作成。)



- ア. 暑さに弱い牛が快適に過ごすことができる県で酪農が盛んである。
- イ. 広い牧草地があり古くから酪農が盛んな北海道は飼育数最多である。
- ウ. 鮮度を保ち、大都市への輸送費を抑えるため関東地方でも多く飼育されている。
- エ. 北海道で生産される生乳は乳製品になることが多く、関東で生産されるものは飲料用が大きな割合を占めている。

問5 下線部③について、次の各問いに答えなさい。

- (1) 明治時代の初期に、栄一が提案した洋紙製造に成功したことで、^{しよせき}書籍や新聞などの印刷物が普及しました。その結果、人々の知識は高まり、産業の発達と文化の共有につながりました。現代のパルプ工場の主な場所と、出荷額の割合のグラフについて、地図を参考にグラフの空らん(ア)～(ウ)にあてはまる都道府県名を漢字で正しく答えなさい。



〈2019年度版「データでみる県勢」より作成。〉

〈製紙・パルプ工場がある主な都市〉



(2) セメント事業でも、栄一は優秀な人材を見だし日本のセメント事業を盛り上げました。現在のセメント工業について述べた次の文の空らん（ア）～（ウ）にあてはまる語句をそれぞれ答えなさい。

セメントの原材料は（ア）で主に（イ）地形の地域で産出されています。工場が主にある都市は、（ウ）県の宇部市や埼玉県の秩父市などです。

(3) 栄一は鉄道、海運、航空と製造だけにとどまらず輸送にも関わりました。現在日本の輸送について、貨物輸送、旅客輸送ともに自動車が最も大きな割合を占めています。市民生活や経済活動に影響のある輸送で「2024年問題」が注目されていますが、解決策を具体的に一つ考えて説明しなさい。その際、補足の文を参考に考えなさい。

<補足①2024年問題とは>

働き方改革に関連した法律が施行され、自動車を運転する仕事で残業する時間の上限が定められます。これはトラックドライバーなどが働きすぎて健全な生活を損なわないため必要な政策です。しかし、これまでトラックドライバーの長時間労働で物流が支えられ、またドライバー自身も低賃金であっても長時間働くことで収入を確保していたため、今後生じる問題が複数考えられます。

<補足②トラックドライバーが考える現場の問題>

ドライバーAさん

「再配達に何度も同じ家に行くので、その分時間や手間がかかります。」

ドライバーBさん

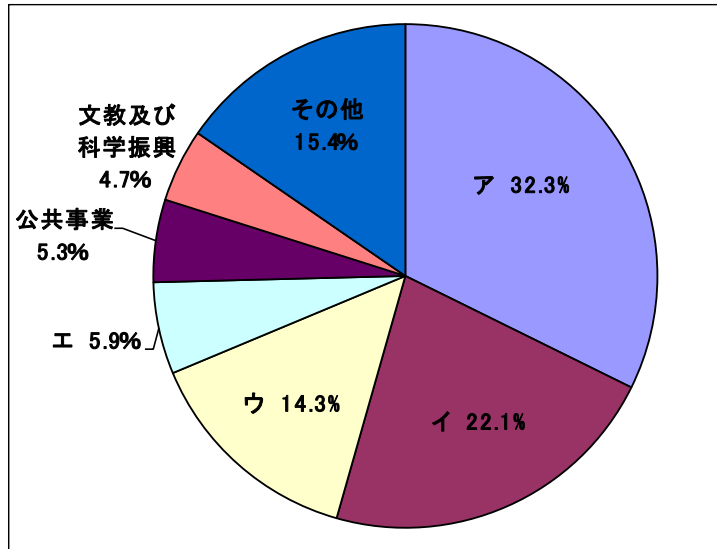
「送料無料をうたう業者によりネットショッピング利用者が増えました。」

ドライバーCさん

「少子化のせいかな若者のなり手が少なく、一人あたりの仕事が多いです。」

問6 下線部④について、次の各問いに答えなさい。

(1) 次のグラフは、現在の国家の歳出を表しています。国民の生活の保障をするための費用である「社会保障関係費」にあたるものを、次のア～エから1つ選び、記号で答えなさい。



(2) 社会保障制度を説明した文のうち、誤っているものを次のア～エから1つ選び、記号で答えなさい。

ア. 雇用保険は仕事や通勤中にけがをした際に支給される。

イ. 公衆衛生は保健所など病気の予防に取り組み、人々の健康を増進させるための体制である。

ウ. 医療保険は病気やけがで治療を受ける際に、医療費の負担が軽減される制度である。

エ. 社会福祉は社会的に弱い立場の人たちを公的に支援する制度である。例えば児童福祉では、保育所問題や子ども手当などを定めている。

(3) 憲法第25条を具体化したもので、収入が少なく生活に困る人々に国家が費用を出して救済する仕組みを何といいますか。漢字4字で答えなさい。

問7 下線部⑤について、栄一の著書『論語と算盤』でも道徳と商売をどのように両立させていくか、社会が健全であるためにどうあるべきかを説いています。日本では、聖徳太子などが古くから儒教の考え方を政治に活かしてきました。聖徳太子が行ったこととして誤っているものを次のア～エから1つ選び、記号で答えなさい。

- ア. 持統天皇の摂政となり、政治改革を進めた。
- イ. 十七条の憲法を定めて、役人の心構えを示した。
- ウ. 仏教を信仰し、法隆寺や四天王寺を建てた。
- エ. 冠位十二階を定め、能力のある者を取りたてた。

問8 下線部⑥について、この人物の政策を説明した文として正しいものを次のア～オからすべて選び、記号で答えなさい。

- ア. 旗本や御家人の生活難を救うため借金帳消し令を出した。
- イ. 株仲間を積極的に認め、一定の税を納めさせた。
- ウ. 民衆の意見を聞き入れるため、目安箱を設置した。
- エ. 幕府の学問所、昌平坂学問所で朱子学以外を教えることを禁じた。
- オ. 江戸や大阪周辺を防衛や収入増加を見込んで幕府の領地にした。

3 次の文章を読んで、あとの問いに答えなさい。

2023年5月、①G7広島サミットが開かれました。サミットは各国の首脳が集まって国際的な課題について話し合う会議で、②最初のサミットは1975年にフランスで開かれました。③日本でサミットが開かれるのは7回目です。今回のサミットでは、核兵器の問題をはじめ、さまざまな課題について話し合われました。サミットにあわせて、日本各地でさまざまな問題を担当する各国の大臣が集まって話し合う関係閣僚^{かくりょう}会合も開かれました。例えば④大阪府堺市では貿易を担当する大臣の会合が、三重県志摩市では交通問題を担当する大臣の会合が、栃木県日光市ではジェンダー平等問題を担当する大臣の会合が、それぞれ開かれました。⑤これらの問題は、国内でも大きな課題です。⑥世界の人口は増え続けており、⑦食料をめぐる問題も国内外で引き続き大きな課題になっています。日本は2023年から2年間、国際社会の平和に責任を持つ【あ】の非常任理事国を務めます。日本には1933年に【い】を脱退し、国際社会から孤立していった歴史があります。平和な世界の実現に向けて、国際社会の協調が求められています。

国内にも解決すべきさまざまな課題があります。少子高齢化や⑧子どもの貧困などの問題に対応するために2023年4月には新たな国の機関として【う】が設置されました。さらに同年6月には⑨外来種に関するルールが変わりました。2024年4月にはトラックの運転手などの労働時間に対する規制が強化されます。そのため運転手が不足し、荷物が届くまでに時間がかかるようになるかもしれません。2023年8月には、東京電力福島第一原子力発電所の事故によって発生した汚染水を処理した水が海洋放出されました。⑩国際機関は安全基準に合致しているとしていますが、漁業などへの影響が心配されています。

私たちが暮らす社会にはさまざまな課題があります。すべての人が平和に暮らせる社会を実現して行くためには何が必要なのか、どのようなことができるのか、これからの中学校と高校での6年間の生活の中で一緒に考えていきましょう。

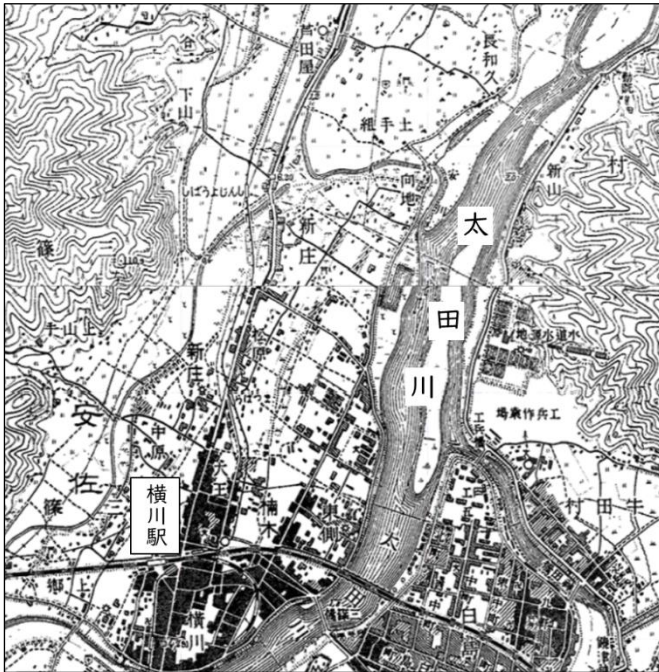
問1 文中【あ】～【う】にあてはまる語句を答えなさい。

問2 下線部①に関連する次の各問いに答えなさい。

(1) G7広島サミットに参加したフランスの大統領は誰か、次のア～エから1つ選び、記号で答えなさい。

ア. メルケル イ. グテーレス ウ. ミシェル エ. マクロン

(2) 次の地図は 1925 年頃と現在の広島市の同じ場所の地形図です。広島市はたびたびある災害にあい、人々は災害を克服する工夫をしてきました。このような工夫の跡は地図の中にも見られます。2つの地図を比べてわかることをふまえて、広島市はどのような災害にあってきたと考えられるか答えなさい。



←1925 年頃の広島市

現在の広島市→



(いずれも「今昔マップ on the web」より作成。)

- (3) 1963年に広島を訪れた際の取材を元に『ヒロシマ・ノート』書いた、ノーベル文学賞受賞作家は誰か。次のア～エから1つ選び、記号で選びなさい。
- ア. 大江健三郎 イ. 湯川秀樹 ウ. 川端康成 エ. 佐藤栄作

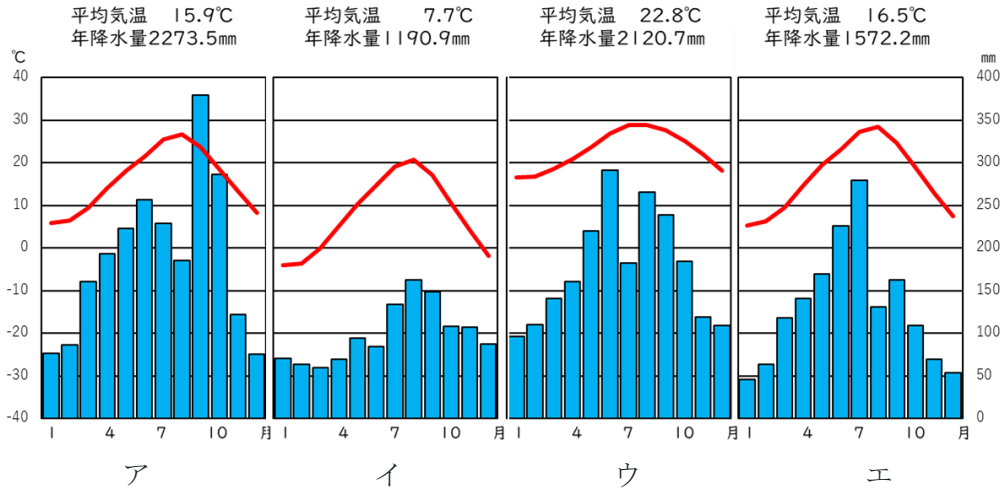
問3 下線部②について、第1回のサミットは1973年に起きた第四次中東戦争の影響で深刻化した世界経済の混乱への対応を話し合うために開かれました。この世界経済の混乱を何といいますか。

問4 下線部③について、次の表は日本で行われたサミットの一覧です。

	開催年	開催地	通称	当時の首相
第5回	1979年	東京		大平正芳
第12回	1986年	東京		中曽根康弘
第19回	1993年	東京		宮澤喜一
第26回	2000年	名護市	九州・沖縄サミット	森喜朗
第34回	2008年	洞爺湖町	北海道・洞爺湖サミット	福田康夫
第42回	2016年	志摩市	伊勢志摩サミット	安倍晋三
第49回	2023年	広島市	広島サミット	岸田文雄

- (1) 第19回と第26回の間のできごとを、次のア～エから1つ選び、記号で答えなさい。
- ア. 国鉄が分割民営化されてJRが発足した。
- イ. PKO協力法に基づき、自衛隊が初めてカンボジアに派遣された。
- ウ. 地球温暖化防止京都会議が開かれ、京都議定書が採択された。
- エ. イラク戦争が起こり、自衛隊がイラクの非戦闘地域に派遣された。

(2) 次のグラフは、東京以外のサミット開催地の月ごとの降水量と気温の平均値を表したものです。次のア～エのうち広島市にあてはまるものを1つ選び、記号で答えなさい。



(気象庁統計データより作成。)

(3) 次の表は、東京以外のサミット開催地の所在する道県における2021年の農業生産額の内訳を割合で示したものです。ア～エのうち広島県にあてはまるものを1つ選び、記号で答えなさい。

＜農業生産額の内訳＞ (％)

	米	野菜	果実	花き	畜産	その他
ア	18.3	20.0	13.3	2.1	44.9	1.4
イ	21.4	14.1	6.5	3.1	43.7	11.2
ウ	0.5	12.9	5.7	8.5	45.6	26.8
エ	7.9	16.0	0.6	1.0	58.4	16.1

(「生産農業所得統計」より作成。)

問5 下線部④に関連して、堺は勘合貿易の拠点として栄えましたが、なぜ勘合を用いて貿易をするようになったのか答えなさい。

問6 下線部⑤に関連する次の各問いに答えなさい。

(1) 2023年8月にLRT(ライト・レール・トランジット)が新たに開業した都市はどこか、次のア～エから1つ選び、記号で答えなさい。

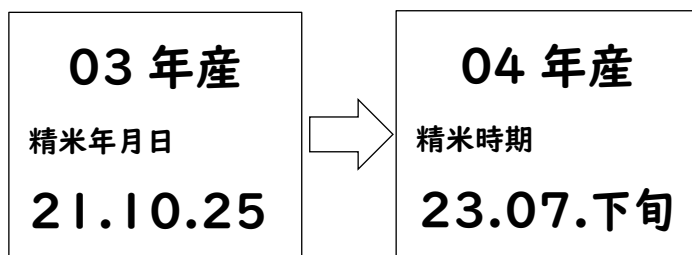
ア. 水戸市 イ. 宇都宮市 ウ. 前橋市 エ. 福島市

(2) 2023年6月にLGBT理解増進法が成立しました。次の条文は、すべての国民が尊重されることを規定している日本国憲法第13条の条文です。空らん(X)にあてはまる語句を漢字で答えなさい。

第13条 すべて国民は、(X)として尊重される。生命、自由及び幸福追求に対する国民の権利については、公共の福祉に反しない限り、立法その他の国政の上で、最大の尊重を必要とする。

問7 下線部⑥について、2023年中に中国の人口を抜いて世界で最も人口が多い国になると推定されている国はどこか答えなさい。

問8. 下線部⑦に関連して、近年、米の精米日の表記が図のように変わってきています。これには、ある問題を解決するねらいがあります。



(1) 同じねらいがあるものはどれか。次のア～エから1つ選び、記号で答えなさい。



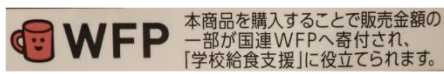
ア



イ



ウ



エ

(2) 「ある問題」とは何か答えなさい。

問9 下線部⑧に関連して、本来大人が担うと想定されている家事や家族の世話などを日常的に行っている子どものことを何というか答えなさい。

問10 下線部⑨について、2023年6月から「条件付き特定外来生物」に指定され、家庭で飼うことはできるが、飼っているものを許可なく池や川などに放すことが禁止されることになった生き物はどれか。次のア～オから2つ選び、記号で答えなさい。

- ア. ブラックバス イ. アカミミガメ ウ. ウシガエル
エ. アメリカザリガニ オ. コツメカワウソ

問11 下線部⑩について、原子力に関する国際機関を次のア～エから1つ選び、記号で答えなさい。

- ア. IMF イ. WTO ウ. IAEA エ. WHO